

Name of the Trade : Architectural Draughtsman - 2nd Sem - Module 1 - Damp proofing and Water proofing

#	Question	OPT A	OPT B	OPT C	OPT D	Question	OPT A	OPT B	OPT C	OPT D	Ans	Level
1	Which material is used for vertical DPC in membrane?	Cement paint	Varnish	Stone powder	PCC	மென்படலத்தில் செங்குத்து டிபிசிக்கு எந்த பொருள் பயன்படுத்தப்படுகிறது?	சிமென்ட் பெயிண்ட்	வார்னிஷ்	கல் தூள்	பி.சி.சி.	A	1
2	What does DPC stands for?	Damp Proof Course	Damp Providing Compound	Deck Proof Compound	Damp Providing Course	டிபிசி எதைக் குறிக்கிறது?	Damp Proof Course	Damp Providing Compound	Deck Proof Compound	Damp Providing Course	A	1
3	What is the purpose of damp proofing?	To bear the load of the super structure	To make the concrete strong	To prevent the entry of damp into the building	To allow rain water penetration	ஈரமான சரிபார்ப்பின் நோக்கம் என்ன?	சூப்பர் கட்டமைப்பின் சுமைகளைத் தாங்க	காங்கிரீட் வலுவாக செய்ய	கட்டிடத்திற்குள் ஈரமான நுழைவதைத் தடுக்க	மழை நீர் ஊடுருவ அனுமதிக்க	C	2
4	Which statement is a source of dampness?	Cavity wall construction with DPC	Defective junctions between roof slab and parapet wall	DPC provided continuously at plinth level	Guiniting provided at sloped surface	எந்த அறிக்கை ஈரப்பதத்தின் மூலமாகும்?	டிபிசியுடன் சுவர் கட்டுமானம்	கூரை ஸ்லாப் மற்றும் பேரேட் சுவருக்கு இடையில் குறைபாடுள்ள சந்திப்புகள்	டிபிசி தொடர்ச்சியாக அடுக்கு மட்டத்தில் வழங்கப்படுகிறது	சாய்ந்த மேற்பரப்பில் வழங்கப்படுக; கினிதிங்	B	2
5	Which one is the major causes of dampness in the roof?	Providing proper rain water gutters	Providing Inadequate roof slope	Providing hot bitumen water proofing to roof	Providing tiles to the roof surface	கூரையில் ஈரப்பதத்திற்கு முக்கிய காரணங்கள் எது?	சரியான மழை நீர் குழல்களை வழங்குதல்	போதுமான கூரை சாய்வை வழங்குதல்	சூடான பிற்றுமின் நீர் சரிபார்ப்பை கூரைக்கு வழங்குதல்	கூரை மேற்பரப்பில் ஓடுகளை வழங்குதல்	B	2
6	Which design element also provides the purpose for water drainage in roofs?	Chimney	Coping	Cornice	Rain water spouts	கூரைகளில் நீர் வடிகட்டுவதற்கான நோக்கத்தையும் எந்த வடிவமைப்பு வழங்குகிறது?	புகைபோக்கி	கோப்பிங்	கார்னிஸ்	மழை நீர் கொட்டுகிறது	D	1
7	What type of concreting is marked as "X"?	Rain water sprout	Joint filler	Bedding concrete	Coping	எந்த வகையான காங்கிரீட்டிங் "எக்ஸ்" என்று குறிக்கப்பட்டுள்ளது?	மழை நீர் கொட்டுகிறது	கூட்டு நிர்ரப்பு	படுக்கை காங்கிரீட்	சமாளித்தல்	C	1
												
8	What is a flexible material and is placed on the bedding of concrete or mortar and can be applied with a minimum thickness of 3mm ?	Copper sheet	Brick	Stone	Hot bitumen	ஒரு நெகிழ்வான பொருள் என்ன மற்றும் காங்கிரீட் அல்லது மோட்டார் படுக்கையில் வைக்கப்படுகிறது மற்றும் குறைந்தபட்சம் 3 மிமீ தடிமன் கொண்டு பயன்படுத்தலாம்	காப்பர் தாள்	செங்கல்	கல்	சூடான பிற்றுமின்	D	1

9	Which damp proofing material is available in rolls?	Bituminous felt	Hot bitumen	Mortar	Cement concrete	ரோல்களில் எந்த ஈரமான சரிபார்ப்பு பொருள் கிடைக்கிறது?	பீடுமினோஸ் பெல்ட்	சூடான பிற்றுமின்	மோட்டார்	சிமென்ட் கான்கிரீட்	A	1
10	Which metal sheet needs an protection layer of bitumen to make it damp proofing?	MS sheet	Aluminium sheet	Lead sheet	Steel sheet	ஈரமான சரிபார்ப்பாக மாற்ற எந்த உலோகத் தாளுக்கு பிற்றுமின் பாதுகாப்பு அடுக்கு தேவை?	எந்த உலோக தாள் அது காப்பு ஈரம் செய்ய பிடுமன் ஒரு பாதுகாப்பு அடுக்கு தேவை?	அலுமினிய தாள்	முன்னணி தாள்	இரும்பு தாள்	B	1
11	Where is stepped damp proofing provided?	In sill level	In lintels	In roofs	In a sloping ground	ஈரமான சரிபார்ப்பு எங்கு வழங்கப்படுகிறது?	சன்னல் மட்டத்தில்	லிண்டல்களில்	கூரைகளில்	ஒரு சாய்வான நிலத்தில்	D	2
12	What is the purpose of coping on a parapet wall?	To prevent the damp from the door	To prevent the damp from the retaining wall	To prevent the entry of damp from the top surface of the wall	To prevent the damp from the window	ஒரு சுவர் சுவரில் சமாளிப்பதன் நோக்கம் என்ன?	கதவிலிருந்து ஈரப்பதத்தைத் தடுக்க	தக்க சுவரில் இருந்து ஈரப்பதத்தைத் தடுக்க	சுவரின் மேல் மேற்பரப்பில் இருந்து ஈரமான நுழைவதைத் தடுக்க	ஜன்னலிலிருந்து ஈரப்பதத்தைத் தடுக்க	C	2
13	Which water proofing method involves application of 25mm mud mortar?	Mud pushka terracing	Tar felting	Cement mortar plastering	Lime concrete terracing	எந்த நீர் நிரூபிக்கும் முறை 25 மிமீ மண் மோட்டார் பயன்படுத்துவதை உள்ளடக்கியது?	மண் புஷ்கா மொட்டை மாடி	ஃபெல்டிங் எடுக்கிறது	சிமென்ட் மோட்டார் பிளாஸ்டரிங்	சுண்ணாம்பு கான்கிரீட் மொட்டை மாடி	A	2
14	Which D.P.C method involves cleaning surface of cisterns with cement gun?	Guinting	Pressure grouting	Cavity wall method	Layered DPC	சிமென்ட் துப்பாக்கியால் கோட்டைகளின் மேற்பரப்பை சுத்தம் செய்வது எந்த டி.பி.சி முறை?	கிண்டிங்	அழுத்தம் கிரௌடிங்	கேவிட்டி சுவர் முறை	அடுக்கு டிபிசி	A	2
15	What is to be provided at roof slab level over the DPC?	Tiles	Concrete	P.C.C	Rubber Sheet	டிபிசி மீது கூரை ஸ்லாப் மட்டத்தில் என்ன வழங்கப்பட வேண்டும்?	ஓடுகள்	கான்கிரீட்	பி.சி.சி	ரப்பர் தாள்	A	2
16	What is the proportion of concrete laid at plinth level for DPC?	1:3:6	1:2:4	2:1:3	1:1:4	டிபிசிக்கு பிளிந்த மட்டத்தில் அமைக்கப்பட்ட கான்கிரீட்டின் விகிதம் என்ன?	1:3:6	1:2:4	2:1:3	1:1:4	B	2
17	What needs to be provided in order to prevent the rising of moisture from the adjacent ground level?	Air poles	Air drains	Lean concrete	Brick layer	அருகிலுள்ள தரை மட்டத்திலிருந்து ஈரப்பதம் அதிகரிப்பதைத் தடுக்க என்ன வழங்க வேண்டும்?	காற்று துருவங்கள்	காற்று வடிகால்	மெல்லிய காரை	செங்கல் அடுக்கு	B	2
18	Which treatment is given to building structures to keep away from dampness?	PCC	DPC	APC	CAD	ஈரப்பதத்திலிருந்து விலகி இருக்க கட்டிட கட்டமைப்புகளுக்கு எந்த சிகிச்சை அளிக்கப்படுகிறது?	பி.சி.சி	டிபிசி	ஏபிசி	கேட்	B	1
19	Which Material is provided for DPC at plinth level?	Bricks	Cement concrete	Stone powder	Rubber sheet	டிபிசிக்கு எந்த அளவிலான பொருள் வழங்கப்படுகிறது?	செங்கல்	சிமென்ட் கான்கிரீட்	கல் தாள்	ரப்பர் தாள்	B	1
20	How the DPC materials can be classified?	3	4	2	5	டிபிசி பொருட்களை எவ்வாறு வகைப்படுத்தலாம்?	3	4	2	5	A	2

21	Which type of wall consists of two separate walls with a cavity or a gap in between them?	Parapet wall	Stone wall	Cavity wall	Chimney	எந்த வகை சுவர் ஒரு கேவிட்டி அல்லது அவற்றுக்கு இடையில் ஒரு இடைவெளி கொண்ட இரண்டு தனித்தனி சுவர்களைக் கொண்டுள்ளது?	கைப்பிடிச் சுவர்	கல் சுவர்	கேவிட்டி சுவர்	புகைபோக்கி	C	1
22	Which grade of concrete is used for DPC at plinth level?	M10	M20	M25	M15	டி.பீ.சிக்கு எந்த அளவிலான கான்கிரீட் பயன்படுத்தப்படுகிறது?	M10	M20	M25	M15	D	2
23	What is the range of width for cavity wall construction?	50 to 100 m	10 to 20 mm	35 to 40 cm	50 to 100 mm	கேவிட்டி சுவர் கட்டுமானத்திற்கான அகலத்தின் வரம்பு என்ன?	50 to 100 m	10 to 20 mm	35 to 40 cm	50 to 100 mm	D	1
24	What is the prescribed limit of cavity width in a cavity wall?	50 mm	100 mm	150 mm	200 mm	ஒரு கேவிட்டி சுவரில் கேவிட்டி அகலத்தின் பரிந்துரைக்கப்பட்ட வரம்பு என்ன?	50 mm	100 mm	150 mm	200 mm	B	1

Name of the Trade : Architectural Draughtsman - 2nd Sem - Module 2 - Anti termite treatment and Projections of solids

#	Question	OPT A	OPT B	OPT C	OPT D	Question	OPT A	OPT B	OPT C	OPT D	Ans	Level
1	Which type of termite is also known as dry wood termites?	Wood nesting termites	Ground nesting termites	Subterranean termites	Pesting termites	உலர்ந்த மரக் கரையான்கள் என்றும் அழைக்கப்படும் எந்த வகை கரையான்கள்?	மரக் கூடு கரையான்கள்	தரையில் கூடு கட்டும் கரையான்கள்	நிலத்தடி கரையான்கள்	பூச்சிகள்	A	1
2	Which type of termite causes great damage to the building in humid coastal areas?	Non-subterranean termites	Subterranean termites	Ground nesting termites	Bed bugs	ஈரப்பதமான கடலோரப் பகுதிகளில் எந்த வகை கரையான்கள் கட்டிடத்திற்கு பெரும் சேதத்தை ஏற்படுத்துகின்றன?	நிலத்தடி அல்லாத கரையான்கள்	நிலத்தடி கரையான்கள்	தரையில் கூடு கட்டும் கரையான்கள்	மூட்டை பூச்சிகள்	A	1
3	What is the purpose of concrete or masonry apron constructed around the periphery of the building?	To provide as a decorative element	To provide passage to the windows	To prevent the seepage of water to the underside of the building	To provide cavity to the building	கட்டிடத்தின் சுற்றளவில் கட்டப்பட்ட கான்கிரீட் அல்லது கொத்து கவசத்தின் நோக்கம் என்ன?	ஒரு அலங்கார உறுப்பு வழங்க	ஜன்னல்களுக்கு பத்தியை வழங்க	கட்டிடத்தின் அடிப்பகுதியில் தண்ணீர் வெளியேறுவதைத் தடுக்க	கட்டிடத்திற்கு குழி வழங்க	C	2
4	Where are termites found in abundance?	Non tropical countries	Tropical and sub tropical countries	Cold region countries	Artic countries	கரையான்கள் ஏராளமாக எங்கே காணப்படுகின்றன?	வெப்பமண்டல அல்லாத நாடுகள்	வெப்பமண்டல மற்றும் துணை வெப்பமண்டல நாடுகள்	குளிர் பிராந்திய நாடுகள்	ஆர்க்டிக் நாடுகள்	B	1
5	Which one is the right method of anti termite treatment for foundation?	Treating the soil after foundation	Treating the soil before any slab placement with insecticides	Treating the plinth after curing the concrete	Treating the walls after painting	அடித்தளத்திற்கான ஆன்டி டெர்மைட் சிகிச்சையின் சரியான முறை எது?	அஸ்திவாரத்திற்குப் பிறகு மண்ணுக்கு சிகிச்சையளித்தல்	பூச்சிக்கொல்லிகளுடன் எந்த ஸ்லாப் இடும் முன் மண்ணை நடத்துதல்	கான்கிரீட்டை குணப்படுத்திய பின் அஸ்திவாரத்திற்கு சிகிச்சை	ஓவியம் வரைந்த பிறகு சுவர்களுக்கு சிகிச்சை	B	2
6	Which type of treatment considers soil treatment in early stages of a building?	Decorative treatment	Damp proofing treatment	Post constructional anti termite treatment	Pre constructional anti termite treatment	ஒரு கட்டிடத்தின் ஆரம்ப கட்டங்களில் எந்த வகை மண் சிகிச்சையை கருதுகிறது?	அலங்கார சிகிச்சை	ஈரமான சரிபார்ப்பு சிகிச்சை	பிந்தைய கட்டுமான ஆன்டி டெர்மைட் சிகிச்சை	கட்டுமானத்திற்கு முந்தைய ஆன்டி டெர்மைட் சிகிச்சை	D	1
7	What is the purpose of anti termite treatment in ordinary soil?	To prevent dry wood termites	To prevent white ants	To provide the building with chemical barrier against the sub-terrain termites	To prevent from non sub terrain termites	சாதாரண மண்ணில் ஆன்டி டெர்மைட் டிரீட்மென்ட் நோக்கம் என்ன?	உலர்ந்த மரக் கரைகளைத் தடுக்க	வெள்ளை எறும்புகளைத் தடுக்க	துணை நிலப்பரப்பு கரையான்களுக்கு எதிராக கட்டிடத்தை ரசாயன தடையுடன் வழங்குதல்	துணை நிலப்பரப்பு அல்லாத கரையான்களிலிருந்து தடுக்க	C	2
8	Which chemical is used as a soil treatment in termite proofing?	Bromine	Calcium	Potassium	Aldrin	டெர்மைட் ப்ரூஃபிங்கில் மண் சிகிச்சையாக எந்த ரசாயனம் பயன்படுத்தப்படுகிறது?	புரோமின்	கால்சியம்	பொட்டாசியம்	ஆல்ட்ரின்	D	1

9	What is the most effective termite control?	Borate wood treatment	Borax wood treatment	Chlorine wood treatment	Chalk powder treatment	மிகவும் பயனுள்ள கரையான் கட்டுப்பாடு என்ன?	போரேட் மர சிகிச்சை	போராக்ஸ் மர சிகிச்சை	குளோரின் மர சிகிச்சை	சுண்ணாம்பு தூள் சிகிச்சை	A	1
10	What treatment is given to buildings to prevent (or) control the growth of termites in a building?	Damp proof treatment	Termite treatment	Fire proof treatment	Cavity wall treatment	ஒரு கட்டிடத்தில் கரையான்களின் வளர்ச்சியைத் தடுக்க (அல்லது) கட்டுப்படுத்த கட்டிடங்களுக்கு என்ன சிகிச்சை அளிக்கப்படுகிறது?	ஈரமான ஆதார சிகிச்சை	கரையான் சிகிச்சை	தீ தடுப்பு சிகிச்சை	Nftpl;b சுவர் சிகிச்சை	B	1
11	Which type of termites enter in to building through craks in concrete and masonry floor joists?	Ground nesting	Non subterranean	Dry wood	White ants	கான்கிரீட் மற்றும் கொத்து மாடி ஜோயிஸ்ட்களில் விரிசல் மூலம் கட்டுவதற்கு எந்த வகை கரையான்கள் நுழைகின்றன?	தரை கூடு	பூமிக்கு அடியில் இல்லை	உலர்ந்த மரம்	வெள்ளை எறும்புகள்	A	2
12	Which solid has three triangle planes meet at one point and has a triangular base?	Cone	Triangular prism	Triangular pyramid	Cylinder	எந்த திடப்பொருளில் மூன்று முக்கோண பிளான்கள் ஒரு கட்டத்தில் சந்தித்து முக்கோண அடித்தளத்தைக் கொண்டுள்ளன?	கூம்பு	முக்கோண பட்டகம்	முக்கோண பிரமிடு	சிலிண்டர்	C	1
13	Which solid has its axis inclined initially to its base or the horizontal plane?	Prism	Cone	Cube	Pyramid	எந்த திடப்பொருளில் மூன்று முக்கோண பிளான்கள் ஒரு கட்டத்தில் சந்தித்து முக்கோண அடித்தளத்தைக் கொண்டுள்ளன?	ப்ரிசம்	கூம்பு	கன	பிரமிட்	A	1
14	When a square pyramid is rested on one of its triangular side what forms are seen in the plan?	Rectangle and a triangle	Square and rectangle	Two square	Two rectangle	ஒரு சதுர பிரமிடு அதன் முக்கோண பக்கத்தில் ஒன்றில் ஓய்வெடுக்கும்போது, திட்டத்தில் என்ன வடிவங்கள் காணப்படுகின்றன?	செவ்வகம் மற்றும் ஒரு முக்கோணம்	சதுரம் மற்றும் செவ்வகம்	இரண்டு சதுரம்	இரண்டு செவ்வகம்	A	2
15	When a cone is inclined to one of its axis then what form is seen in the side elevation?	Circle	Triangle	Square	Rectangle	ஒரு கூம்பு அதன் அச்சில் ஒன்றில் சாய்ந்தால், பக்க உயரத்தில் என்ன வடிவம் காணப்படுகிறது?	வட்டம்	முக்கோணம்	சதுரம்	செவ்வகம்	B	2
16	Which solid has circle as base and top?	Cube	Prism	Pyramid	Cylinder	எந்த திட அடிப்படை மற்றும் மேல் போன்ற வட்டம் உள்ளது?	கன	ப்ரிசம்	பிரமிட்	சிலிண்டர்	D	1
17	Why soil is treated with chemicals?	To provide structural barriers	To provide damage to soil	To provide damp proofing	To provide termite proofing	மண் ஏன் இரசாயனங்கள் மூலம் சிகிச்சையளிக்கப்படுகிறது?	கட்டமைப்பு தடைகளை வழங்க	மண்ணுக்கு சேதம் விளைவிக்க	ஈரமான சரிபார்ப்பு வழங்க	டெர்மைட் ப்ரூஃபிங் வழங்க	D	2
18	How many sides does a pentagonal pyramid consists?	5 sides	4 sides	6 sides	2 sides	பெண்டகோனல் பிரமிடு எத்தனை பக்கங்களைக் கொண்டுள்ளது?	5 பக்கங்களும்	4 பக்கங்களும்	6 பக்கங்களும்	2 பக்கங்களும்	C	2
19	How many sides does a triangular prism consists?	5 sides	2 sides	3 sides	7 sides	ஒரு முக்கோண ப்ரிசம் எத்தனை பக்கங்களைக் கொண்டுள்ளது?	5 பக்கங்களும்	2 பக்கங்களும்	3 பக்கங்களும்	7 பக்கங்களும்	A	2

20	When a cylinder base is rested on the horizontal plane then what is the front elevation form?	Inclined projection of solids- cone and cylinder	Rectangle	Circle	Oval	உலோகத் தாள்கள் ஏன் அடுக்கு மட்டத்தில் வழங்கப்படுகின்றன?	திடப்பொருட்களின் சாய்ந்த திட்டம்- கூம்பு மற்றும் சிலிண்டர்	செவ்வகம்	வட்டம்	ஓவல்	B	2
21	Why metal sheets are provided at plinth level?	To prevent entry of termite	To provide scaffolding	To provide shoring	To provide coping	உலோகத் தாள்கள் ஏன் அடுக்கு மட்டத்தில் வழங்கப்படுகின்றன?	டெர்மைட் நுழைவதைத் தடுக்க	சாரக்கட்டு வழங்க	ஷோரிங் வழங்க	கோப்பிங் வழங்க	A	2
22	When a cylinder is rested on the horizontal plane then what form is projected in the plan?	Oval	Circle	Rectangle	Triangle	கிடைமட்ட பிளானில் ஒரு சிலிண்டர் ஓய்வெடுக்கும்போது, திட்டத்தில் எந்த வடிவம் திட்டமிடப்பட்டுள்ளது?	ஓவல்	வட்டம்	செவ்வகம்	முக்கோணம்	B	2
23	What is the name of the termites cannot survive or live without maintaining connection with the soil?	White ants	Dry wood	Subterranean	Non subterranean	மண்ணுடன் தொடர்பைப் பேணாமல் உயிர்வாழ்வோ வாழ்வோ முடியாது என்ற கரையான்களின் பெயர் என்ன?	வெள்ளை எறும்புகள்	உலர்ந்த மரம்	நிலத்தடி	பூமிக்கு அடியில் இல்லை	C	2
24	When a cone is placed on a cylinder then what forms is projected in the elevation?	Circle and rectangle	Rectangle and triangle	Two circles	Two oval	ஒரு சிலிண்டரில் ஒரு கூம்பு வைக்கப்படும் போது, உயரத்தில் என்ன வடிவங்கள் திட்டமிடப்படுகின்றன?	வட்டம் மற்றும் செவ்வகம்	செவ்வகம் மற்றும் முக்கோணம்	இரண்டு வட்டம்	இரண்டு ஓவல்	B	2

Name of the Trade : Architectural Draughtsman - 2nd Sem - Module 3 - Principles of design and Design ideas

#	Question	OPT A	OPT B	OPT C	OPT D	Question	OPT A	OPT B	OPT C	OPT D	Ans	Level
1	When a building is designed , Which aspects can be satisfied by using elements such as sloped roofs, decorative columns, roofs for windows?	Aesthetics	Creating	Designing	Planning	ஒரு கட்டிடம் வடிவமைக்கப்படும்போது, சாய்ந்த கூரைகள், அலங்கார நெடுவரிசைகள், ஜன்னல்களுக்கான கூரைகள் போன்ற கூறுகளைப் பயன்படுத்தி எந்த அம்சங்களை திருப்திப்படுத்த முடியும்?	அழகியல்	உருவாக்குகிறது	வடிவமைத்தல்	திட்டமிடல்	A	1
2	What is a psychological sense of equilibrium which places the parts of a visual in an aesthetically pleasing arrangement?	Balance	Repetition	Movement	Proportion	ஒரு காட்சியின் பகுதிகளை அழகாக மகிழ்வளிக்கும் ஏற்பாட்டில் வைக்கும் சமநிலையின் உளவியல் உணர்வு என்ன?	இருப்பு	மறுபடியும்	இயக்கம்	விகிதாச்சாரங்கள்	A	1
3	Which refers to the relative size and scale of the various elements in a design?	Movement	Perspective	Proportion	Scaling	வடிவமைப்பில் உள்ள பல்வேறு கூறுகளின் ஒப்பீட்டு அளவு மற்றும் அளவைக் குறிக்கும் எது?	இயக்கம்	பெர்ஸ்பெக்டிவ்	விகிதம்	அளவிடுதல்	C	1
4	What is created through the arrangement of objects in two dimensional space to look like they appear in real life?	Element	Perspective	Planning	Movement	நிஜ வாழ்க்கையில் தோன்றுவதைப் போல இரு பரிமாண இடைவெளியில் உள்ள பொருட்களின் ஏற்பாட்டின் மூலம் என்ன உருவாக்கப்படுகிறது?	உறுப்பு	பெர்ஸ்பெக்டிவ்	திட்டமிடல்	இயக்கம்	B	1
5	Which term has no dimension or magnitude but its importance and denotes its position in space?	Circle	Point	Line	Figure	எந்த காலத்திற்கு எந்த பரிமாணமும் அளவும் இல்லை, ஆனால் அதன் முக்கியத்துவம் மற்றும் விண்வெளியில் அதன் நிலையை குறிக்கிறது?	வட்ட	புள்ளி	லைன்	படம்	B	1
6	What is the portion of building between the surface of any floor and surface of succeeding floor termed?	Mezzanine	Porch	Ceiling	Storey	எந்தவொரு தளத்தின் மேற்பரப்புக்கும் அடுத்தடுத்த தளத்தின் மேற்பரப்புக்கும் இடையில் கட்டடத்தின் பகுதி என்ன?	மெஸ்ஸானைன்	தாழ்வாரம்	சீலிங்	மேல்மடி	D	1
7	What is the process of procuring a preliminary sketch of an object that is to be physically constructed later?	Aesthetics	Erecting	Designing	Construction	பின்னர் கட்டமைக்கப்பட வேண்டிய ஒரு பொருளின் ஆரம்ப ஸ்கெட்ச் வாங்குவதற்கான செயல்முறை என்ன?	அஸ்த்தெடிக்ஸ்	நிமிர்ந்து நிற்கிறது	வடிவமைத்தல்	கட்டுமானம்	C	1
8	What is the formula for floor area ratio(FAR)?	Ground floor area / first floor area	Plinth area / plot area	Plot area / built up area	Total floor area of all floors / total site area	தரை பரப்பு விகிதத்திற்கான (FAR) சூத்திரம் என்ன?	தரை தளம் / முதல் மாடி பகுதி	அடுக்கு பகுதி / சதி பகுதி	சதி பகுதி / கட்டப்பட்ட பகுதி	அனைத்து மாடிகள் / மொத்த தளத்தில் பகுதியில் மொத்த தரை பகுதியில்	D	1
9	What is the scale used for sanction plan for approval?	1:100	1:20	1: 200	1: 25	ஒப்புதலுக்கான ஒப்புதல் திட்டத்திற்கு பயன்படுத்தப்படும் அளவு என்ன?	1:100	1:20	1: 200	1: 25	A	1

10	What is the purpose of contour lines at site plan?	Indicating location of fire hydrant	Indicating slopes at site	Indicating north line and wind direction	Indicating building zone	தளத் திட்டத்தில் விளிம்பு வரிகளின் நோக்கம் என்ன?	தீ ஹைட்ராண்டின் இருப்பிடத்தைக் குறிக்கிறது	தளத்தில் சரிவுகளைக் குறிக்கிறது	வடக்கு கோடு மற்றும் காற்றின் திசையைக் குறிக்கிறது	கட்டிட மண்டலத்தைக் குறிக்கிறது	B	2
11	What is the sequence process of a design?	Bubble diagram, site analysis, design plan and requirements	Requirements, bubble diagram, design plan and site analysis	Design plan, bubble diagram, site analysis and requirements	Site analysis, requirements, bubble diagram and design plan	வடிவமைப்பின் வரிசை செயல்முறை என்ன?	குமிழி வரைபடம், தளத்தில் ஆய்வு, வடிவமைப்பு திட்டம் மற்றும் தேவைகள்	தேவைகள், குமிழ் வரைபடம், வடிவமைப்பு திட்டம் மற்றும் தளத்தில் Mய்வு	வடிவமைப்பு திட்டம், குமிழி வரைபடம், தளத்தில் ஆய்வு மற்றும் தேவைகள்	தளத்தில் ஆய்வு, தேவைகள், குமிழி வரைபடம் மற்றும் வடிவமைப்பு திட்டம்	D	2
12	Which design consists of practical or down to earth design?	Canonic design	Analogical design	Pragmatic design	Iconic design	எந்த வடிவமைப்பு நடைமுறை அல்லது கீழே பூமி வடிவமைப்பைக் கொண்டுள்ளது?	நியமன வடிவமைப்பு	ஒப்புமை வடிவமைப்பு	நடைமுறை வடிவமைப்பு	சின்னமான வடிவமைப்பு	C	1
13	What is the advantage of texture in designing a building?	It expresses the quality of material	It does not gives a particular quality of light	It does not highlight and create a feel	It increases the cost	ஒரு கட்டிடத்தை வடிவமைப்பதில் அமைப்பின் நன்மை என்ன?	இது பொருளின் தரத்தை வெளிப்படுத்துகிறது	இது ஒளியின் ஒரு குறிப்பிட்ட தரத்தை அளிக்காது	இது ஒரு உணர்வை முன்னிலைப்படுத்தாது	இது செலவை அதிகரிக்கிறது	A	2
14	Which one is a primary colour?	Green	Blue	Orange	Purple	எது முதன்மை நிறம்?	பச்சை	நீலம்	ஆரஞ்சு	ஊதா	B	1
15	How does light emphasis a building?	Light decreases visual expression	Light increases the cost of construction	Light increases the living quality of nature	Light doesn't emphasis a building	ஒளி ஒரு கட்டிடத்தை எவ்வாறு வலியுறுத்துகிறது?	ஒளி காட்சி வெளிப்பாட்டைக் குறைக்கிறது	ஒளி கட்டுமான செலவை அதிகரிக்கிறது	ஒளி இயற்கையின் வாழ்க்கைத் தரத்தை அதிகரிக்கிறது	ஒளி ஒரு கட்டிடத்தை வலியுறுத்தவில்லை	C	2
16	Which principle of design refers as a point of focus or attention in a design?	Symmetry	Balance	Emphasis	Character	வடிவமைப்பின் எந்தக் கொள்கை ஒரு வடிவமைப்பில் கவனம் அல்லது கவனத்தை ஈர்க்கிறது?	சமச்சீர்	இருப்பு	வலியுறுத்தல்	எழுத்து	C	1
17	What is the purpose of symmetrical or formal balance in a design?	It emphasis the element	It gives a feel of dignity and restraint	It provides a vibrant effect	It provides good ventilation	ஒரு வடிவமைப்பில் சமச்சீர் அல்லது முறையான சமநிலையின் நோக்கம் என்ன?	இது உறுப்புக்கு முக்கியத்துவம் அளிக்கிறது	இது கண்ணியம் மற்றும் கட்டுப்பாட்டின் உணர்வைத் தருகிறது	இது ஒரு துடிப்பான விளைவை வழங்குகிறது	இது நல்ல காற்றோட்டத்தை வழங்குகிறது	B	2
18	Which principle of design describes a movement of eye across a design?	Emphasis	Proportion	Rhythm	Balance	வடிவமைப்பு எந்த கொள்கை ஒரு வடிவமைப்பு முழுவதும் கண் இயக்கம் விவரிக்கிறது?	வலியுறுத்தல்	விகிதம்	ரிதம்	இருப்பு	C	1
19	What is unity alternatively called?	Repetition	Harmony	Rhythm	Scale	ஒற்றுமை மாற்றாக என்ன அழைக்கப்படுகிறது?	மறுபடியும்	நல்லிணக்கம்	ரிதம்	அளவுகோல்	B	1

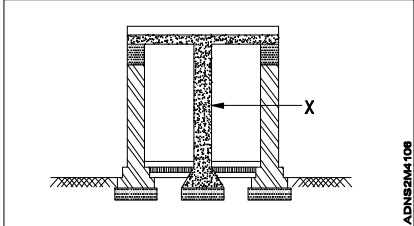
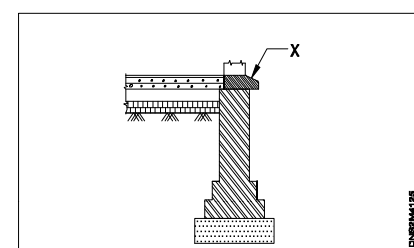
20	What is colours that are directly opposite to each other in a colour wheel called?	Tertiary colours	Secondary colours	Monochromatic colours	Complementary colours	ஒரு வண்ண சக்கரத்தில் ஒருவருக்கொருவர் நேரடியாக எதிர் இருக்கும் வண்ணங்கள் nganuன்ன?	மூன்றாம் வண்ணங்கள்	இரண்டாம் வண்ணங்கள்	ஒரே வண்ணமுடைய வண்ணங்கள்	நிரப்பு வண்ணங்கள்	D	1
21	What is the lower storey of a building below plinth level called?	Basement	Upper floor	Garage	Balcony	ஒரு கட்டடத்தின் கீழ் மாடி என்ன?	அடித்தளம்	மேல் தளம்	கேரேஜ்	பால்கனி	A	1
22	What is the standard height of a residential building for each floor?	3000 mm	2400 mm	1200 mm	4000 mm	ஒவ்வொரு தளத்திற்கும் ஒரு குடியிருப்பு கட்டிடத்தின் நிலையான உயரம் என்ன?	3000 mm	2400 mm	1200 mm	4000 mm	A	1
23	What is the open to sky space which is enclosed partially or fully in a residence called?	Balcony	Courtyard	Mezzanine floor	Terrace	ஒரு வீட்டில் ஓரளவு அல்லது முழுமையாக மூடப்பட்டிருக்கும் வானத்திற்கு திறந்த இடம் எது?	பால்கனி	முற்றம்	இடைமட்ட மாடி	மொட்டை மாடி	B	1
24	What is the purpose of set back in an residential building?	It increases the cost of the building	It provides a gap between adjacent building	It reduces the floor space	It provides good built up area	ஒரு குடியிருப்பு கட்டிடத்தில் திரும்புவதற்கான நோக்கம் என்ன?	இது கட்டிடத்தின் விலையை அதிகரிக்கிறது	இது அருகிலுள்ள கட்டிடத்திற்கு இடையில் ஒரு இடைவெளியை வழங்குகிறது	இது தரையின் இடத்தைக் குறைக்கிறது	இது நல்ல கட்டமைக்கப்பட்ட பகுதியை வழங்குகிறது	B	2
25	What does site analysis include?	Details of quantities of materials	Costing of building	Soil conditions and climatic conditions	Design drawings	சைட் அனாலிசிஸ் என்ன அடங்கும்?	பொருட்களின் அளவு விவரங்கள்	கட்டிட செலவு	மண் நிலைமைகள் மற்றும் காலநிலை நிலைமைகள்	வடிவமைப்பு வரைபடங்கள்	C	2
26	What is the purpose of site analysis?	To increase slope	To minimise soil disturbance and erosion	To remove existing vegetation	To design bubble diagram	சைட் அனாலிசிஸ் நோக்கம் என்ன?	சாய்வு அதிகரிக்க	மண் தொந்தரவு மற்றும் அரிப்பைக் குறைக்க	இருக்கும் தாவரங்களை அகற்ற	குமிழி வரைபடத்தை வடிவமைக்க	B	2
27	What is the importance of soil study in site analysis?	To minimise vegetation	To analyse the soil condition	To increase the cost of construction	To increase the slope depth	தள பகுப்பாய்வில் மண் ஆய்வின் முக்கியத்துவம் என்ன?	தாவரங்களை குறைக்க	மண்ணின் நிலையை ஆய்வு செய்ய	கட்டுமான செலவை அதிகரிக்க	சாய்வு ஆழத்தை அதிகரிக்க	B	2
28	What is the advantage of contours in hilly regions?	It increases built up area	It reduces the building cost	It can reduce soil erosion	It increases soil erosion	மலைப்பாங்கான பகுதிகளில் உள்ள வரையறைகளின் நன்மை என்ன?	இது கட்டப்பட்ட பகுதியை அதிகரிக்கிறது	இது கட்டிட செலவைக் குறைக்கிறது	இது மண் அரிப்பைக் குறைக்கும்	இது மண் அரிப்பை அதிகரிக்கிறது	C	2
29	What is the standard scale of site plan?	1:50	1:5	1:20	1:200	சைட் பிளானின் நிலையான அளவு என்ன?	1:50	1:5	1:20	1:200	D	1
30	What is the shortcut key for erase?	R	E	ER	S	அழிப்பதற்கான ஷார்ட்ஃட் கி என்ன?	R	E	ER	S	B	1
31	What is the command for TR?	Trim	Turn	Rotate	Move	TR- க்கான கட்டளை என்ன?	ட்ரிம்	திரும்ப	சுழற்று	நகர்வு	A	1
32	What is the purpose of fillet command?	It breaks two lines	It joins two lines	It moves a line	It rotates a line	ஃபில்லட் கட்டளையின் நோக்கம் என்ன?	இது இரண்டு வரிகளை உடைக்கிறது	இது இரண்டு வரிகளில் இணைகிறது	அது ஒரு வரி நகரும்	அது ஒரு வரி சுழல்கிறது	B	2

33	What is the necessary of layers in any drawing?	It helps in keeping the records	It gives the 3D effect	Its helps in freezing components as and when required	It helps in dimension only	எந்த வரைபடத்திலும் அடுக்குகளுக்கு என்ன தேவை?	இது பதிவுகளை வைத்திருக்க உதவுகிறது	இது 3D விளைவை அளிக்கிறது	தேவைப்படும் போது கூறுகளை முடக்குவதற்கு இது உதவுகிறது	இது பரிமாணத்தில் மட்டுமே உதவுகிறது	C	2
34	What is the short cut key for extend?	ER	EX	EC	EN	நீட்டிப்பதற்கான குறுக்கு வெட்டு விசை என்ன?	ER	EX	EC	EN	B	1
35	What is the command for SC?	Stretch	Scale	Site plan	Rotate	SC-க்கான கட்டளை என்ன?	நீட்சி	ஸ்கேல்	தள திட்டம்	சுழற்று	B	1
36	Which one is a geometrical form?	Line	Cubes	Point	Spline	எது வடிவியல் வடிவம்?	லைன்	க்யூப்ஸ்	புள்ளி	வளைவு	B	1
37	Why is bubble diagram important in functional planning?	It helps in clustering the requirements	It helps to reduce the cost	It helps is elevation design	It helps in site analysis	செயல்பாட்டுத் திட்டத்தில் குமிழி வரைபடம் ஏன் முக்கியமானது?	இது தேவைகளைக் களஸ்டரிங் செய்ய உதவுகிறது	இது செலவைக் குறைக்க உதவுகிறது	இது உயர வடிவமைப்புக்கு உதவுகிறது	இது தள பகுப்பாய்விற்கு உதவுகிறது	A	2
38	Which process is required before starting the concept plan?	Design elevation	Bubble diagram	Design section	Design landscape	கான்செப்ட் திட்டத்தைத் தொடங்குவதற்கு முன் எந்த செயல்முறை தேவை?	வடிவமைப்பு உயரம்	குமிழி வரைபடம்	வடிவமைப்பு பிரிவு	வடிவமைப்பு இயற்கை	B	2
39	Which one is an vertical circulation element?	Corridor	Pathway	Escalators	Bridge	செங்குத்து சுழற்சி உறுப்பு எது?	தாழ்வாரம்	பாதை	எஸ்கலேட்டர்கள்	பாலம்	C	1
40	Which one is an interesting variation of a multi storey house?	Split level house	Single storey house	Row house	Apartment	பல மாடி வீட்டின் சுவாரஸ்யமான மாறுபாடு எது?	பிளவு நிலை வீடு	ஒற்றை மாடி வீடு	வரிசை வீடு	அடுக்குமாடி இல்லங்கள்	A	1
41	What is an open roofed entrance hall or central court in a residence called?	Courtyard	Atrium	Pergola	Porch	ஒரு குடியிருப்பில் திறந்த கூரை நுழைவு மண்டபம் அல்லது மத்திய நீதிமன்றம் என்றால் என்ன?	முற்றம்	ஏட்ரியம்	பெர்கோலா	தாழ்வாரம்	B	1
42	Which is an ideal flooring for kitchen?	Rubber floor	Granite floor	Carpet floor	Brick floor	சமையலறைக்கு ஏற்ற தளம் எது?	ரப்பர் தளம்	கிரானைட் தளம்	தரைவிரிப்பு தளம்	செங்கல் தளம்	B	1
43	Which flooring increases the elegance for a bed room?	Terrazzo flooring	Cement flooring	Rubber flooring	Wooden flooring	எந்த தளம் ஒரு படுக்கை அறைக்கு நேர்த்தியை அதிகரிக்கிறது?	டெர்ராலோ தரையையும்	சிமெண்ட் தரையையும்	ரப்பர் தரையையும்	மர தரையையும்	D	1
44	What is an ideal size of a toilet in an residence?	5m x 5m	1.5m x 1.8m	3m x 4m	1m x 1m	ஒரு குடியிருப்பில் ஒரு கழிப்பறையின் சிறந்த அளவு என்ன?	5m x 5m	1.5m x 1.8m	3m x 4m	1m x 1m	B	1
45	What is the ideal width of a sofa?	1000 mm	300 mm	600 mm	800 mm	சோபாவின் சிறந்த அகலம் என்ன?	1000 mm	300 mm	600 mm	800 mm	C	1
46	What is the standard height of a dining table?	300 mm	750 mm	450 mm	900 mm	சாப்பாட்டு மேசையின் நிலையான உயரம் என்ன?	300 mm	750 mm	450 mm	900 mm	B	1

47	Why is open spaces required for a good residence design?	For parking vehicles only	It provides provision of roof height	A better ventilation can be provided	For reducing building cost	நல்ல குடியிருப்பு வடிவமைப்பிற்கு திறந்தவெளி ஏன் தேவைப்படுகிறது?	வாகனங்களை நிறுத்துவதற்கு மட்டுமே	இது கூரை உயரத்தை வழங்குகிறது	சிறந்த காற்றோட்டம் வழங்க முடியும்	கட்டிட செலவைக் குறைக்க	C	2
48	Why should the bed not placed in north side?	Because of no ventilation	Because the magnetic field lies in the north south direction	Because of wind direction	Because of building height	படுக்கையை ஏன் வடக்குப் பக்கத்தில் வைக்கக்கூடாது?	காற்றோட்டம் இல்லாததால்	ஏனெனில் காந்தப்புலம் வடக்கு தெற்கு திசையில் அமைந்துள்ளது	ஏனெனில் காற்றின் திசை	கட்டிட உயரம் காரணமாக	B	2

Name of the Trade : Architectural Draughtsman 2nd Sem - NSQF - Module 4 : Structural panels and Stairs

#	Question	OPT A	OPT B	OPT C	OPT D	Question	OPT A	OPT B	OPT C	OPT D	Ans	Level
1	What is the vertical member of a stair which is fixed between string and handrail called?	Baluster	Nosing	Cornice	Module	சரம் மற்றும் ஹேண்ட்ரெயிலுக்கு இடையில் சரி செய்யப்பட்ட ஒரு படிக்கட்டின் செங்குத்து உறுப்பினர் என்ன?	பலஸ்டர்	நோசிங்	கார்னிஸ்	தொகுதி	A	1
2	What is an unbroken series of steps between landings called?	Flight	Stairway	Railing	Riser	தரையிறக்கங்களுக்கு இடையில் உடைக்கப்படாத தொடர் படிகள் என்ன?	பிளைட்	படிக்கட்டு	ரெயிலிங்	ரைசர்	A	1
3	What is the vertical member of a stair, which are placed at the end of the flights to support the handrail called?	Balustrades	Nosing	Newel post	Baluster	அழைக்கப்பட்ட ஹேண்ட்ரெயிலை ஆதரிக்க பிளான்களின் முடிவில் வைக்கப்படும் ஒரு படிக்கட்டின் செங்குத்து உறுப்பினர் என்ன?	பலஸ்ட்ரேட்ஸ்	நோசிங்	நியூவெல் தூண்	பலஸ்டர்	C	1
4	Which among the following statement is true?	A straight stair has only one flight	In a circular stair, the flights consists of winders only	Geometrical stair is also called spiral stair	Dog legged stairs has no landing	பின்வரும் அறிக்கையில் எது உண்மை?	நேரான படிக்கட்டில் ஒரே ஒரு விமானம் மட்டுமே உள்ளது	ஒரு வட்ட படிக்கட்டில், விமானங்கள் விண்டர்களை மட்டுமே கொண்டிருக்கின்றன	வடிவியல் படிக்கட்டு சுழல் படிக்கட்டு என்றும் அழைக்கப்படுகிறது	நாய் கால் படிக்கட்டுகளில் தரையிறக்கம் இல்லை	B	2
5	What is the inclination of a stair to its horizontal limit?	10 to 20 degree	30 to 45 degree	45 to 60 degree	5 to 10 degree	கிடைமட்ட ஒரு படிக்கட்டின் சாய்வு என்ன?	10 to 20 degree	30 to 45 degree	45 to 60 degree	5 to 10 degree	B	1
6	What is a tapering step that changes the direction of the flight?	Spandrel	Rise	Going	Winders	பிளானின் திசையை மாற்றும் ஒரு குறுகலான படி என்ன?	ஸ்பான்டர்ல்	ரைஸ்	கோயிங்	விண்டர்ஸ்	D	1
7	What is the minimum headroom height required for a good stair?	1.5M	3M	2.1M	1M	நல்ல படிக்கட்டுக்குத் தேவையான குறைந்தபட்ச ஹெட்ரூம் உயரம் என்ன?	1.5M	3M	2.1M	1M	C	1
8	What is the vertical distance between two successive treads of a stair termed?	Headroom	Cornice	Nosing	Rise	ஒரு படிக்கட்டின் தொடர்ச்சியான இரண்டு ஜாக்கிரதைகளுக்கு இடையிலான செங்குத்து தூரம் என்ன?	ஹெட்ரூம்	கார்னிஸ்	நோசிங்	rise	D	1
9	What is the under surface of a stair termed?	Soffit	Waist	Intrados	Headroom	ஒரு படிக்கட்டின் கீழ் மேற்பரப்பு என்ன?	சாஃப்ட்	வாய்ஸ்ட்	இன்ட்ரடோஸ்	ஹெட்ரூம்	A	1
10	What is the standard height of a staircase handrail?	300 mm	900 mm	75 mm	450 mm	ஒரு படிக்கட்டு ஹேண்ட்ரெயிலின் நிலையான உயரம் என்ன?	300 mm	900 mm	75 mm	450 mm	B	1

11	What is the number of treads in each flight in a dog-legged stair provided in an office building for a total height of 3.60m in a staircase 2.8m x 6m, with two equal flights. If rise = 16.36cm?	9	5	22	11	இரண்டு சமமான பிளானுடன், 2.8 மீ x 6 மீ, ஒரு படிக்கட்டில் மொத்தம் 3.60 மீ உயரத்திற்கு ஒரு அலுவலக கட்டிடத்தில் வழங்கப்பட்ட நாய்-கால் படிக்கட்டில் ஒவ்வொரு பிளானிலும் உள்ள ஜாக்கிரதைகளின் எண்ணிக்கை என்ன? உயர்வு என்றால் = 16.36 செ.மீ?	9	5	22	11	D	2
12	In which type of a stair, the steps project from the central post?	Dog legged	Straight stair	Spiral stair	Wooden stair	எந்த வகை படிக்கட்டில், மத்திய பதவியில் இருந்து படிகள் திட்டம்?	டாக் லெக்ட்	நேராக படிக்கட்டு	சுழல் படிக்கட்டு	மர படிக்கட்டு	C	1
13	Which one is also termed as load bearing wall?	Structural wall	Partition wall	Curtain wall	Dwarf wall	சுமை தாங்கும் சுவர் என்றும் அழைக்கப்படும் எது?	கட்டமைப்பு சுவர்	தடுப்பு சுவர்	ரீடைன் சுவர்	ட்வர்ப் சுவர்	A	1
14	Which type of structures are used in high rise buildings?	Framed structures	Composite structures	Load bearing structures	Partition structures	உயரமான கட்டிடங்களில் எந்த வகை கட்டமைப்புகள் பயன்படுத்தப்படுகின்றன?	கட்டமைக்கப்பட்ட கட்டமைப்புகள்	காம்போசிட் கட்டமைப்புகள்	சுமை தாங்கும் கட்டமைப்புகள்	தடுப்பு கட்டமைப்புகள்	A	1
15	Which wall is designed to carry super imposed loads from floors and roofs?	Non load bearing wall	Load bearing wall	Retaining wall	Partition wall	மாடிகள் மற்றும் கூரைகளிலிருந்து சூப்பர் சுமத்தப்பட்ட சுமைகளைச் சுமக்க வடிவமைக்கப்பட்ட சுவர் எது?	சுமை தாங்காத சுவர்	சுமை தாங்கும் சுவர்	ரெடைனிங் சுவர்	தடுப்பு சுவர்	B	1
16	What is the part marked as 'X' in the composite structure? 	RCC beam	RCC slab	RCC column	RCC base slab	காம்போசிட் கட்டமைப்பில் 'எக்ஸ்' என குறிக்கப்பட்ட பகுதி என்ன?	ஆர்.சி.சி பீம்	ஆர்.சி.சி ஸ்லாப்	ஆர்.சி.சி நெடுவரிசை	ஆர்.சி.சி அடிப்படை ஸ்லாப்	C	1
17	Which wall system uses prefabricated RCC panels as load bearing walls?	Longitudinal wall system	Transverse wall system	Cross wall system	Zigzag wall system	எந்த சுவர் அமைப்பு முன்னரே தயாரிக்கப்பட்ட ஆர்.சி.சி பேனல்களை சுமை தாங்கும் சுவர்களாக பயன்படுத்துகிறது?	நீளமான சுவர் அமைப்பு	டிரான்ஸ்வெர்ஸ் சுவர் அமைப்பு	குறுக்கு சுவர் அமைப்பு	ஜிக்ஸாக் சுவர் அமைப்பு	C	1
18	Which component of building is a flat horizontal surface?	Retaining wall	Column	Slab	Beam	ஒரு பிளாட் கிடைமட்ட மேற்பரப்பில் கட்டிடத்தின் எந்த அங்கமாகும்?	ரெடைனிங் சுவர்	காலம்	ஸ்லாப்	பீம்	C	1
19	What is the part marked as 'X' in the diagram? 	Damp proofing	Plinth course	Parapet coping	Cornice	'எக்ஸ்' என குறிக்கப்பட்ட பகுதி என்ன?	ஈரமான சரிபார்ப்பு	பிலிந்த் கோர்ஸ்	பேரேட் காப்பிங்	கார்னிஸ்	B	1

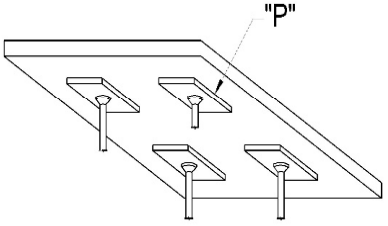
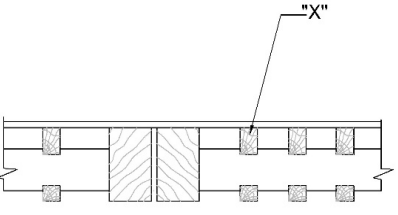
20	What is the type of stair? 	Bifurcated stair	Straight stair	Dog legged stair	Open well stair	படிக்கட்டு வகை என்ன?	ரிக்கப்பட்ட படிக்கட்டு	நேரான படிக்கட்டு	நாய் கால் படிக்கட்டு	நன்கு படிக்கட்டு திறக்கவும்	A	1
21	What is the type of stair? 	Circular stair	Straight stair	Spiral stair	Geometrical stair	படிக்கட்டு வகை என்ன?	வட்ட படிக்கட்டு	நேரான படிக்கட்டு	சுழல் படிக்கட்டு	ஜாமெட்ரிகல் படிக்கட்டு	B	1
22	What is the part marked as 'X' in the wooden stair? 	Scotia	Nosing	Riser	Soffit	மர படிக்கட்டில் 'X' எனக் குறிக்கப்பட்ட பகுதி என்ன?	ஸ்கோடியா	நோசிங்	ரைசர்	சோஃபிட்	B	1
23	What is the common metal used for the construction of stairs?	Mild steel	Lead	Copper	Zinc	மாடிப்படி கட்டுமான பயன்படுத்தப்படும் பொதுவான உலோக என்ன?	லேசான எஃகு	ஈயம்	தாமிரம்	துத்தநாகம்	A	1
24	What is the part marked as 'X'? 	Rise	Tread	Soffit	Nosing	'X' எனக் குறிக்கப்பட்ட பகுதி என்ன?	rise;	டிரேட்	சோஃபிட்	நோசிங்	A	1
25	What is the thickness of partition brick wall?	230 mm	75 mm	130 mm	200 mm	தடுப்பு செங்கல் சுவரின் தடிமன் என்ன?	230 mm	75 mm	130 mm	200 mm	B	1
26	What is the advantage of framed structures?	Transportation is reduced	Windows can be big	Freedom in planning	Stairs is not necessary	கட்டமைக்கப்பட்ட கட்டமைப்புகளின் நன்மை என்ன?	போக்குவரத்து குறைகிறது	விண்டோஸ் பெரியதாக இருக்கலாம்	திட்டமிடலில் சுதந்திரம்	படிக்கட்டுகள் தேவையில்லை	C	2

27	What is the advantage of precast concrete?	The precast articles may be given the desired shape and finish with accuracy	The work can be completed in long time	The precast structures cannot be dismantled suitably	Precast can be expensive	ப்ரீகாஸ்ட் கான்கிரீட் என்ன பயன்?	ப்ரீகாஸ்ட் கட்டுரைகளுக்கு விரும்பிய வடிவம் கொடுக்கப்பட்டு துல்லியத்துடன் முடிக்கப்படலாம்	வேலையை நீண்ட காலத்திற்குள் முடிக்க முடியும்	ப்ரீகாஸ்ட் கட்டமைப்புகளை பொருத்தமான முறையில் அகற்ற முடியாது	ப்ரீகாஸ்ட் விலை உயர்ந்ததாக இருக்கும்	A	2
28	What is the disadvantage of precast concrete?	Precast units may be damaged during transport	Special equipments are not required for lifting and moving	Transportation cost will be decreased	Work can be completed in short time	ப்ரீகாஸ்ட் கான்கிரீட்டின் தீமை என்ன?	போக்குவரத்தின் போது ப்ரீகாஸ்ட் அலகுகள் சேதமடையக்கூடும்	தூக்குவதற்கும் நகர்த்துவதற்கும் சிறப்பு உபகரணங்கள் தேவையில்லை	போக்குவரத்து செலவு குறையும்	குறுகிய காலத்தில் பணிகளை முடிக்க முடியும்	A	2
29	Which one is a structural steel member?	Corrugated cement sheet	I - Section	Handrail	Metal roof sheet	கட்டமைப்பு எஃகு உறுப்பினர் யார்?	நெளி சிமென்ட் தாள்	ஐ பிரிவு	ஹேண்ட்ரெயில்	உலோக கூரை தாள்	B	1
30	What is the additional moulding provided to the nosing below the tread called?	Pitch	Handrail	Going	Scotia	ஜாக்கிரதையாக கீழே உள்ள மூக்குக்கு வழங்கப்படும் கூடுதல் மோல்டிங் என்ன?	பிட்ச்	ஹேண்ட்ரெயில்	கோயிங்	ஸ்காட்டியா	D	1
31	What is the standard width of stair for residence?	600 mm	1200 mm	750 mm	900 mm	குடியிருப்புக்கான படிக்கட்டுகளின் நிலையான அகலம் என்ன?	600 mm	1200 mm	750 mm	900 mm	D	1
32	What is a stair turning through two right angles called?	Spiral stair	Circular stair	Straight stair	Half turn stair	இரண்டு வலது கோணங்களில் ஒரு படிக்கட்டு என்ன?	சுழல் படிக்கட்டு	வட்ட படிக்கட்டு	நேரான படிக்கட்டு	அரை திருப்பம் படிக்கட்டு	D	1
33	Which stairs consists only winders?	Dog legged stair	Circular stair	Open well stair	Straight stair	எந்த படிக்கட்டுகளில் விண்டர்கள் மட்டுமே உள்ளன?	நாய் கால் படிக்கட்டு	வட்ட படிக்கட்டு	நன்கு படிக்கட்டு திறக்கவும்	நேரான படிக்கட்டு	B	1
34	What does moving stair electrically operated called?	Lift	Escalators	Helical stair	Spiral stair	மின்சாரம் மூலம் இயக்கப்படும் படிக்கட்டு என்ன அழைக்கப்படுகிறது?	லிப்ட்	எஸ்கலேட்டர்கள்	ஹெலிகல் படிக்கட்டு	சுழல் படிக்கட்டு	B	1
35	Which stairs is more suitable for grand residence?	Circular stair	Straight stair	Spiral stair	Dog legged stair	பிரமாண்டமான குடியிருப்புக்கு எந்த படிக்கட்டுகள் மிகவும் பொருத்தமானவை?	வட்ட படிக்கட்டு	நேரான படிக்கட்டு	சுழல் படிக்கட்டு	நாய் கால் படிக்கட்டு	A	1
36	What is the advantage of wooden stair?	Light in weight	Strong and durable	Fire resistant	Can carry heavy weight	மர படிக்கட்டுகளின் நன்மை என்ன?	எடை குறைவாக	வலுவான மற்றும் நீடித்த	தீ தடுப்பான்	அதிக எடையைச் சுமக்க முடியும்	A	1

37	Which type of stair is not frequently used?	Brick stair	Wooden stair	Steel stair	RCC stair	எந்த வகை படிக்கட்டு அடிக்கடி பயன்படுத்தப்படுவதில்லை?	செங்கல் படிக்கட்டு	மர படிக்கட்டு	எஃகு படிக்கட்டு	ஆர்.சி.சி படிக்கட்டு	A	1
38	Which type of stair is used as fire escape stairs in commercial building?	RCC stair	Metal stair	Wooden stair	Stone stair	வணிக கட்டிடத்தில் தீ தப்பிக்கும் படிக்கட்டுகளாக எந்த வகை படிக்கட்டு பயன்படுத்தப்படுகிறது?	ஆர்.சி.சி படிக்கட்டு	உலோக படிக்கட்டு	மர படிக்கட்டு	கல் படிக்கட்டு	B	1
39	Which type of stair is ideal for factories?	Spiral stair	Circular stair	Dog legged stair	Geometrical stair	தொழிற்சாலைகளுக்கு எந்த வகை படிக்கட்டு ஏற்றது?	சுழல் படிக்கட்டு	வட்ட படிக்கட்டு	நாய் கால் படிக்கட்டு	ஜாமெட்ரிகல் படிக்கட்டு	C	1
40	Which type of stair is commonly used in all types of construction?	Wooden stairs	Stone stairs	RCC stairs	Brick stairs	எல்லா வகையான கட்டுமானத்திலும் பொதுவாக எந்த வகை படிக்கட்டு பயன்படுத்தப்படுகிறது?	மர படிக்கட்டு	கல் படிக்கட்டு	ஆர்.சி.சி படிக்கட்டு	செங்கல் படிக்கட்டு	C	1
41	What is the ideal width of the tread for a good wooden stair?	150 mm	300 mm	600 mm	450 mm	ஒரு நல்ல மர படிக்கட்டுக்கான ஜாக்கிரதையின் சிறந்த அகலம் என்ன?	150 mm	300 mm	600 mm	450 mm	B	1
42	What should be the ideal location of stairs in an building?	Next to kitchen	In front of the entrance	In one extreme corner	Easily accessible from all rooms	ஒரு கட்டிடத்தில் படிக்கட்டுகளின் சிறந்த இடம் என்னவாக இருக்க வேண்டும்?	சமையலறைக்கு அடுத்து	நுழைவாயிலின் முன்	ஒரு தீவிர மூலையில்	எல்லா அறைகளிலிருந்தும் எளிதாக அணுகலாம்	D	2
43	Where is spiral stairs normally located?	For main stair purpose	For external use in residence	In schools	In hospitals	சுழல் படிக்கட்டுகள் பொதுவாக எங்கே அமைந்துள்ளன?	முக்கிய படிக்கட்டு நோக்கத்திற்காக	வசிப்பிடத்தில் வெளிப்புற பயன்பாட்டிற்கு	பள்ளிகளில்	மருத்துவமனைகளில்	B	2
44	Which stair is connected by a central pole?	Dog legged stair	Spiral stair	Open well stair	Bifurcated stair	எந்தப் படிக்கட்டு மத்திய துருவத்தால் இணைக்கப்பட்டுள்ளது?	நாய் கால் படிக்கட்டு	சுழல் படிக்கட்டு	நன்கு படிக்கட்டு திறக்கவும்	Bifurcated படிக்கட்டு	B	1
45	Which material is ideal for spiral stair?	Metal	Concrete	Brick	Stone	சுழல் படிக்கட்டுக்கு ஏற்ற பொருள் எது?	மெட்டல்	காங்கிரீட்	செங்கல்	கல்	A	1
46	Which type of stair forms an helical shape in elevation?	Spiral stair	Bifurcated stair	Open well stair	Straight stair	எந்த வகை படிக்கட்டு உயரத்தில் ஒரு ஹெலிகல் வடிவத்தை உருவாக்குகிறது?	சுழல் படிக்கட்டு	கம்பப்பட்ட படிக்கட்டு	நன்கு படிக்கட்டு திறக்கவும்	நேரான படிக்கட்டு	A	1
47	What is the advantage of steel truss over timber truss?	They cannot be fabricated in any shape	They are fire proof and termite proof	They are expensive	They are maintenance free	மர டிரஸை விட எஃகு டிரஸின் நன்மை என்ன?	அவற்றை எந்த வடிவத்திலும் புனைய முடியாது	அவை தீ ப்ரூப் மற்றும் கரையான் ப்ரூப்	அவை விலை உயர்ந்தவை	அவை பராமரிப்பு இல்லாதவை	B	2

48	What is the disadvantage of composite steel truss?	Low cost of fabrication	Special fittings are required at the junction of composite materials	They are strong and more durable	They are fire proof	கலப்பு எஃகு டிரஸின் தீமை என்ன?	புனையலின் குறைந்த செலவு	கலப்பு பொருட்களின் சந்திப்பில் சிறப்பு பொருத்துதல்கள் தேவை	அவை வலுவானவை, மேலும் நீடித்தவை	அவை தீ ஆதாரம்	B	2
49	What is the thickness of partition brick wall?	230 mm	75 mm	130 mm	200 mm	தடுப்பு செங்கல் சுவரின் தடிமன் என்ன?	230 mm	75 mm	130 mm	200 mm	B	1

Name of the Trade : Architectural Draughtsman - 2nd Sem - Module 5 - Floor and Floorings

#	Question	OPT A	OPT B	OPT C	OPT D	Question	OPT A	OPT B	OPT C	OPT D	Ans	Level
1	What is the proportion of cement mortar used for raked joints in brick or stone flooring?	1:03	1:06	1:08	1:10	செங்கல் அல்லது கல் தரையையும் ராக்கெட் ஜோயண்ட்ஸ் பயன்படுத்தப்படும் சிமெண்ட்டின; விகிதம் என்ன?	1:03	1:06	1:08	1:10	A	1
2	What is the proportion of slope five for proper drainage of stone flooring?	1 in 40	1 in 10	1 in 20	1 in 5	கல் தரையையும் முறையாக வடிகட்டுவதற்கு சாய்வு ஐந்தின் விகிதம் என்ன?	1 in 40	1 in 10	1 in 20	1 in 5	A	1
3	Which type of joints are used in strip flooring to join the wooden members to each other?	Tabled joint	Dovetail joint	Tongue and groove joint	Cogged joint	மர உறுப்பினர்களை ஒருவருக்கொருவர் இணைக்க துண்டு தரையில் எந்த வகை மூட்டுகள் பயன்படுத்தப்படுகின்றன?	கூட்டு அட்டவணை	டோவெடெய்ல் கூட்டு	நாக்கு மற்றும் பள்ளம் கூட்டு	மூடிய கூட்டு	C	1
4	What is the other term used for sub floor covering?	Foundation course	Base course	Wearing course	Weathering course	துணை மாடி மறைப்புக்கு பயன்படுத்தப்படும் மற்ற சொல் என்ன?	ஃ வவுன்டேஷன் கோர்ஸ்	பேஸ் கோர்ஸ்	வியரிங் கோர்ஸ்	வெதரிங் கோர்ஸ்	B	1
5	What is the projection below the slab marked "P" termed? 	Column capital	Drop panel	Rib	Flange	"பி" என்று குறிக்கப்பட்ட ஸ்லாப்பின் கீழே உள்ள ப்ரொஜெக்ஷன் என்ன?	நெடுவரிசை மூலதனம்	டிராப் பேனல்	ரிப்	ஃபிளாஞ்ச்	B	1
6	What is the wooden member marked "X" termed? 	Corbel	Ceiling joist	Girder	Bridging joist	எக்ஸ்" என்று குறிக்கப்பட்ட மர உறுப்பினர் என்ன?	கார்பல்	சீலிங் ஜாய்ஸ்ட்	கிரடர்	பிரிட்ஜிங் ஜாய்ஸ்ட்	D	1
7	What type of floor is constructed with 4mm to 6mm marble chips?	Stone flooring	Brick flooring	Terrazzo flooring	Marble flooring	4 மிமீ முதல் 6 மிமீ பளிங்கு சில்லுகளுடன் எந்த வகை தளம் கட்டப்பட்டுள்ளது?	கல் தரையையும்	செங்கல் தரையையும்	டெர்ராலோ தரையையும்	பளிங்கு தரையையும்	C	1
8	What is the ratio for laying cement concrete floor?	4:2:1	3:1:2	1:1:1	1:2:4	சிமென்ட் கான்கிரீட் தளம் போடுவதற்கான விகிதம் என்ன?	4:2:1	3:1:2	1:1:1	1:2:4	D	1

9	Which flooring material is used to transmit light to the floor below?	Glass flooring	Brick flooring	Marble flooring	Linoleum flooring	தரை மட்டத்திற்கு மேலே உள்ள ஒவ்வொரு மாடியின் மற்ற தளங்களும் என்ன?	கண்ணாடி தரையையும்	செங்கல் தரையையும்	பளிங்கு தரையையும்	லினோலியம் தரையையும்	A	1
10	What is the other floors of each storey above the ground level called?	Timber floor	Upper floor	Basement floor	Ground floor	தரை மட்டத்திற்கு மேலே உள்ள ஒவ்வொரு மாடியின் மற்ற தளங்களும் என்ன?	மரத் தளம்	மேல் தளம்	அடித்தள தளம்	தரைத்தளம்	B	1
11	Which kind of wooden flooring consists of wooden planks or boards which are suitably joined together?	Rubber flooring	Block flooring	Tile flooring	Strip board flooring	எந்த வகையான மரத் தளங்களில் மரத்தாலான பலகைகள் உள்ளன?	ரப்பர் தரையையும்	செங்கல் தரையையும்	ஒடு தரையையும்	ஸ்ட்ரீப் (துண்டு)பலகை தரையையும்	D	1
12	What precautions to be taken in case of jack arch floors?	Tie rods is not provided for strength	Cement concrete need to be laid carefully	Protection of steel joist from lime is not required	Flooring is not necessary	பலா வளைவு தளங்களில் என்ன முன்னெச்சரிக்கைகள் எடுக்கப்பட வேண்டும்?	டை தண்டுகள் வலிமைக்கு வழங்கப்படவில்லை	சிமென்ட் கான்கிரீட் கவனமாக போட வேண்டும்	சுண்ணாம்பிலிருந்து எஃகு இணைப்பைப் பாதுகாக்க தேவையில்லை	தரையையும் தேவையில்லை	B	2
13	Why is bridging joists used in timber floors?	It increases the stability of the floor	It reduces the height of the floor	It acts as an element	It is the main floor	மரத் தளங்களில் பாலம் கட்டுதல் ஏன் பயன்படுத்தப்படுகிறது?	இது தரையின் நிலைத்தன்மையை அதிகரிக்கிறது	இது தரையின் உயரத்தை குறைக்கிறது	இது ஒரு உறுப்பாக செயல்படுகிறது	இது பிரதான தளம்	A	2
14	What is the top surface of the floor called?	Flooring	Upper floor	Bridging joist	Plugging	தரையின் மேல் மேற்பரப்பு என்ன?	தரையையும்	மேல் தளம்	பிரிட்ஜிங் ஜாய்ஸ்ட்	பலுக்கிங்	A	1
15	Which one is a composite floor?	Timber floor	Jack arch floor	Single joist floor	Double joist floor	கலப்பு தளம் எது?	மரத் தளம்	பலா வளைவு தளம்	ஒற்றை ஜாய்ஸ்ட் தளம்	இரட்டை ஜாய்ஸ்ட் தளம்	B	1
16	What is the disadvantage of double joist timber floors?	Stone is required for strength	Flooring looks elegant	The depth of the floor is increased	Binders are not used hence strength is reduced	இரட்டை ஜாய்ஸ்ட் மரத் தளங்களின் தீமை என்ன?	வலிமைக்கு கல் தேவை	தளம் அமைத்தல் அழகாக இருக்கிறது	தரையின் ஆழம் அதிகரிக்கப்படுகிறது	பைண்டர்கள் பயன்படுத்தப்படவில்லை, எனவே வலிமை குறைகிறது	C	2
17	Which type of flooring is used in auditorium for stage?	Vinyl flooring	Rubber flooring	Timber flooring	Stone flooring	மேடைக்கு ஆடிட்டோரியத்தில் எந்த வகை தரையையும் பயன்படுத்தப்படுகிறது?	வினைல் தரையையும்	ரப்பர் தரையையும்	மரத் தளம்	கல் தரையையும்	C	1
18	What is the purpose of water proofing in basement floor?	To prevent termite	To prevent dampness	To prevent fire	To prevent cracking	இந்த நிலைக்கான தரையையும் எந்த வகையான பயன்படுத்தப்படுகிறது?	கரையான் தடுக்க	ஈரப்பத்தைத் தடுக்க	நெருப்பைத் தடுக்க	விரிசலைத் தடுக்க	B	2
19	What is the proportion of concrete mix for ordinary concrete floor finish?	1:4:8	1:1½:3	1:3:9	1:2:8	சாதாரண கான்கிரீட் தரை பூச்சுக்கான கான்கிரீட் கலவை விகிதம் என்ன?	1:4:8	1:1½:3	1:3:9	1:2:8	B	1
20	What is the purpose of rib floor?	To reduce the height of the floor	To reduce the total weight of the floor	To increase the slab thickness	To increase the cost	ரிப் தளத்தின் நோக்கம் என்ன?	தரையின் உயரத்தை குறைக்க	தரையின் மொத்த எடையைக் குறைக்க	ஸ்லாப் தடிமன் அதிகரிக்க	செலவு அதிகரிக்க	B	2

21	What is the advantage of pre cast concrete floor?	Construction can be slow	Fire proof and sound proof	Cost can increase	Reinforcement is not required	ப்ரீகாஸ்ட் கான்கிரீட் தளத்தின் நன்மை என்ன?	கட்டுமானம் மெதுவாக இருக்கும்	தீ ஆதாரம் மற்றும் ஒலி ஆதாரம்	செலவு அதிகரிக்கலாம்	வலுவூட்டல் தேவையில்லை	B	2
22	What is the disadvantage of pre cast concrete floor?	Transportation cost is less	They can be cost effective only in small quantity	They require careful supervision	Slab thickness can be less	ப்ரீகாஸ்ட் கான்கிரீட் தளத்தின் தீமை என்ன?	போக்குவரத்து செலவு குறைவாக உள்ளது	அவை சிறிய அளவில் மட்டுமே செலவு குறைந்ததாக இருக்கும்	அவர்களுக்கு கவனமாக மேற்பார்வை தேவை	ஸ்லாப் தடிமன் குறைவாக இருக்கலாம்	C	2
23	Which flooring material is damp resistance?	Timber	Stone	Brick	Rubber	எந்த தரையையும் ஈரமான எதிர்ப்பு?	மரம்	கல்	செங்கல்	ரப்பர்	B	1
24	What is the intermediate floor between ground floor and first floor called?	Mezzanine floor	Single joist floor	Terrace floor	Balcony	தரை தளத்திற்கும் முதல் தளத்திற்கும் இடையிலான இடைநிலை தளம் என்ன?	இடைமட்ட மாடி	ஒற்றை ஜாய்ஸ்ட் தளம்	மொட்டை மாடி	பால்கனி	A	1

Name of the Trade : Architectural Draughtsman - 2nd Sem - Module 6 - History of Egyptian- Greek and Roman architecture and CAD

#	Question	OPT A	OPT B	OPT C	OPT D	Question	OPT A	OPT B	OPT C	OPT D	Ans	Level
1	What is the quick way to view the entire drawing area using the Zoom command?	Type Z enter A enter	Type Z enter B enter	Type SHOWALL enter	Type ALL	ஜமீம் கட்டளையைப் பயன்படுத்தி முழு வரைபடப் பகுதியையும் காண விரைவான வழி என்ன?	Type Z enter A enter	Type Z enter B enter	Type SHOWALL enter	Type ALL	A	2
2	Which command convert discrete objects in polyline?	Join	Union	Subtract	Polyline	பாலிலைனில் தனித்துவமான பொருள்களை எந்த கட்டளை மாற்றுகிறது?	ஜாய்ன்	யூனியன்	சப்ஸ்ட்ரக்ட்	பாலிலைன்	A	1
3	What is the difference between the Scale command from the command zoom?	Scale can reduce the shape, while zoom can enlarge the shape	Scale for single project, while zoom for whole drawing	Scale changes the size of the objects, while the zoom changes the visibility of the project	No difference	ஜமீம் கட்டளையிலிருந்து அளவீட்டு கட்டளைக்கு என்ன வித்தியாசம்?	அளவுகோல் வடிவத்தை குறைக்கலாம், அதே நேரத்தில் ஜமீம் வடிவத்தை பெரிதாக்க முடியும்	ஒற்றை திட்டத்திற்கான அளவுகோல், முழு வரைபடத்திற்கும் பெரிதாக்குங்கள்	அளவுகோல் பொருள்களின் அளவை மாற்றுகிறது, அதே நேரத்தில் ஜமீம் திட்டத்தின் பார்க்கூடிய நிலையை மாற்றுகிறது	ஒரு வித்தியாசமும் இல்லை	C	2
4	What happens when a layer is turned off?	File space is saved when saving the file	Details on the layer cannot be seen	Details cannot be erased from the layer	It makes no real difference	ஒரு அடுக்கு அணைக்கப்படும் போது என்ன நடக்கும்?	பைல் சேமிக்கும்போது பைல் இடம் சேமிக்கப்படுகிறது	லேயரில் விவரங்களைக் காண முடியாது	விவரங்களை அடுக்கிலிருந்து அழிக்க முடியாது	இது உண்மையான வித்தியாசத்தை ஏற்படுத்தாது	B	2
5	What is the BREAK command used for?	Retrieve an erased object	Break a line into two	Create multiple copies	Erase a line	பிரேக் கட்டளை எதற்காக பயன்படுத்தப்படுகிறது?	அழிக்கப்பட்ட பொருளை மீட்டெடுக்கவும்	ஒரு வரியை இரண்டாக உடைக்கவும்	பல நகல்களை உருவாக்கவும்	ஒரு வரியை அழிக்கவும்	B	2
6	Which one is an example of Egyptian architecture?	Ajanta ellora caves	Lingaraja temple	Basilica	Pyramid of cheops	எகிப்திய கட்டிடக்கலைக்கு உதாரணம் எது?	அஜந்தா எல்லோரா குகைகள்	லிங்கராஜா கோயில்	பேராலயம்	சேப்ஸின் பிரமிடு	D	1
7	Which material was predominantly used in Egyptian architecture?	Granite	Rubber	Lime stone	Cement	எகிப்திய கட்டிடக்கலையில் எந்த பொருள் முக்கியமாக பயன்படுத்தப்பட்டது?	கிரானைட்	ரப்பர்	சுண்ணாம்பு கல்	சிமெண்ட்	C	1
8	Which river did Egyptian civilization start?	River niger	River tigris	River congo	River Nile	எகிப்திய நாகரிகம் எந்த நதியைத் தொடங்கியது?	நதி நைகர்	நதி டைக்ரிஸ்	நதி காங்கோ	நதி நைல்	D	1
9	Which material was used for Egyptian house constructions?	Mud	Sand	Cement	Concrete	எகிப்து வீடு கட்டுமானத்திற்கு எந்த பொருள் பயன்படுத்தப்பட்டது?	மண்	மணல்	சிமெண்ட்	காங்கிரீட்	A	1
10	Which material was favoured for temples and tombs?	Granite	Stone	Marble	Concrete	கோயில்களுக்கும் கல்லறைகளுக்கும் எந்த பொருள் விரும்பப்பட்டது?	கிரானைட்	ஸ்டோன்	மார்பிள்	காங்கிரீட்	B	1

11	What kind of leaves did egyptian use to decorate the columns?	Mango leaves	Banyan leaves	Coconut leaves	Papyrus leaves	நெடுவரிசைகளை அலங்கரிக்க எகிப்தியன் எந்த வகையான இலைகளைப் பயன்படுத்தினார்?	மாம்பழ இலைகள்	ஆலமணி இலைகள்	தேங்காய் இலைகள்	பாப்பிரஸ் இலைகள்	D	1
12	Which one is an example of egyptian architecture?	Stamba	Gopura	Obelisk	Iconic column	எகிப்திய கட்டிடக்கலைக்கு உதாரணம் எது?	காலிகோ	கோபுரம்	ஒபெலிஸ்க்	சின்னமான நெடுவரிசை	C	1
13	What is the purpose of pyramid in egyptian architecture?	To preserve the king and queen dead body	To preserve the jewels	To preserve the resources	To preserve the animals	எகிப்திய கட்டிடக்கலையில் பிரமிட்டின் நோக்கம் என்ன?	ராஜா மற்றும் ராணி இறந்த உடலைப் பாதுகாக்க	நகைகளை பாதுகாக்க	வளங்களை பாதுகாக்க	விலங்குகளை பாதுகாக்க	A	2
14	What was the belief of egyptian to preserve the bodies?	Life after death	They worshipped kings	Kings control nature	Kings are respected	உடல்களைப் பாதுகாக்க எகிப்தியனின் நம்பிக்கை என்ன?	மரணத்திற்குப் பின் வாழ்க்கை	அவர்கள் அரசர்களை வணங்கினர்	மன்னர்கள் இயற்கையை கட்டுப்படுத்துகிறார்கள்	மன்னர்கள் மதிக்கப்படுகிறார்கள்	A	1
15	Where was pyramid at giza constructed?	North bank of congo	East bank of nile	West bank of nile	South bank of congo	கிசாவில் பிரமிடு எங்கே கட்டப்பட்டது?	காங்கோவின் வடக்குக் கரை	நைல் கிழக்குக் கரை	நைல் மேற்குக் கரை	காங்கோவின் தென் கரை	C	1
16	What was the height of pyramid at giza?	100 meters	147 meters	230 meters	450 meters	கிசாவில் பிரமிட்டின் உயரம் என்ன?	100 மீட்டர்	147 மீட்டர்	230 மீட்டர்	450 மீட்டர்	B	1
17	What was the purpose of mustabas?	Egyptian temple	Egyptian tomb	Egyptian houses	Egyptian column	முஸ்தபாக்களின் நோக்கம் என்ன?	எகிப்திய கோயில்	எகிப்திய கல்லறை	எகிப்திய வீடுகள்	எகிப்திய நெடுவரிசை	B	2
18	What is the main feature of sphinx?	It features cow head and a lion body	It features a lion head and a human body	It features sheep head and cow body	It features the king head and body	சுப்ஹான்ஸ் முக்கிய அம்சம் என்ன?	இது மாட்டுத் தலை மற்றும் சிங்கம் உடலைக் கொண்டுள்ளது	இது சிங்கம் தலை மற்றும் மனித உடலைக் கொண்டுள்ளது	இதில் செம்மறி தலை மற்றும் பசு உடல் உள்ளது	இது ராஜாவின் தலை மற்றும் உடலைக் கொண்டுள்ளது	B	2
19	Which one is an example of greek architecture?	Mastabs at giza	Colosseum at rome	Parthenon at athens	Partheon at rome	கிரேக்க கட்டிடக்கலைக்கு உதாரணம் எது?	கிசாவில் மஸ்தாப்ஸ்	ரோமில் கொலோசியம்	ஏதென்ஸில் பார்த்தீனான்	ரோமில் பார்த்தீனான்	C	1
20	Which civilization had the two eras - hellenic period hellenistic period?	Indian civilization	Roman civilization	Greek civilization	Egyptian civilization	எந்த நாகரிகம் இரண்டு காலங்களைக் கொண்டிருந்தது - ஹெலெனிக் காலம் ஹெலனிஸ்டிக் காலம்?	இந்திய நாகரிகம்	ரோமானிய நாகரிகம்	கிரேக்க நாகரிகம்	எகிப்திய நாகரிகம்	C	1
21	Which type of column was the simplest form of column in greek architecture?	Coriantian order	Ionic order	Doric order	Tuscan order	கிரேக்க கட்டிடக்கலையில் நெடுவரிசையின் எளிய வடிவம் எந்த வகை நெடுவரிசை?	கொரிந்திய ஆர்டர்	அயனி ஆர்டர்	டோரிக் ஆர்டர்	டஸ்கன் ஆர்டர்	C	1
22	What was the purpose of entablature in greek architecture?	Water drain	Decorative purpose	Parapet wall	Takes complete load	கிரேக்க கட்டிடக்கலையில் உட்பொதிப்பதன் நோக்கம் என்ன?	நீர் வடிகால்	அலங்கார நோக்கம்	பேரேட் சுவர்	முழுமையான சுமை எடுக்கும்	B	2
23	Where is the temple of zeus, olympus located?	Egypt	Greece	India	Rome	ஜீயஸ், ஒலிம்பஸ் கோயில் எங்கே அமைந்துள்ளது?	எகிப்து	கிரீஸ்	இந்தியா	ரோம்	B	1

24	Which column order contains ram's horns in greek style?	Doric order	Ionic order	Corinthian order	Tuscan order	கிரேக்க பாணியில் ராமின் கொம்புகள் எந்த நெடுவரிசை வரிசையில் உள்ளன?	டோரிக் ஆர்டர்	அயனி ஆர்டர்	கொரிந்திய ஆர்டர்	டஸ்கன் ஆர்டர்	B	1
25	What is shape of the temple of partheneon at athens?	Oval	Circle	Square	Rectangle	ஏதென்ஸில் உள்ள பார்த்தீனியன் கோவிலின் வடிவம் என்ன?	ஓவல்	வட்டம்	சதுரம்	செவ்வகம்	D	1
26	Which column style is used in parthenon at athens?	Ionic order	Composite order	Tuscan order	Doric order	ஏதென்ஸில் பார்த்தீனானில் எந்த நெடுவரிசை பாணி பயன்படுத்தப்படுகிறது?	அயனி ஆர்டர்	கொரிந்திய ஆர்டர்	டஸ்கன் ஆர்டர்	டோரிக் ஆர்டர்	D	1
27	Where is parthenon temple located?	Rome	Congo, egypt	Giza, egypt	Athens, greece	பார்த்தீனான் கோயில் எங்கே அமைந்துள்ளது?	ரோம்	காங்கோ, எகிப்து	கிசா, எகிப்து	ஏதென்ஸ், கிரீஸ்	D	1
28	What style of architecture is parthenon designed?	Heptastyle ionic order with doric features	Octastyle doric order with ionic features	Hexastyle ionic features	Persian style with doric order	பார்த்தீனான் எந்த பாணி கட்டிடக்கலை வடிவமைக்கப்பட்டுள்ளது?	டோரிக் அம்சங்களுடன் ஹெப்டாஸ்டைல் அயனி வரிசை	அயனி அம்சங்களுடன் ஆக்டாஸ்டைல் டோரிக் வரிசை	ஹெக்சாஸ்டைல் அயனி அம்சங்கள்	டோரிக் வரிசையுடன் பாரதீக பாணி	B	2
29	How many flutes does each column contain in parthenon at athens?	24 flutes	20 flutes	10 flutes	35 flutes	ஒவ்வொரு நெடுவரிசையிலும் ஏதென்ஸில் பார்த்தீனானில் எத்தனை புல்லாங்குழல் உள்ளது?	24 புல்லாங்குழல்	20 புல்லாங்குழல்	10 புல்லாங்குழல்	35 புல்லாங்குழல்	B	1
30	How many outer columns does parthenon at athens consists?	24 columns	46 columns	8 columns	12 columns	ஏதென்ஸில் பார்த்தீனான் எத்தனை வெளி நெடுவரிசைகளைக் கொண்டுள்ளது?	24 நெடுவரிசைகள்	46 நெடுவரிசைகள்	8 நெடுவரிசைகள்	12 நெடுவரிசைகள்	B	1
31	Which one is the right statement that is said for roman architecture?	Rome was more predominant	Rome was not built in a day	Rome was situated in the banks of river Nile	Rome has the simple structures	ரோமன் கட்டிடக்கலைக்குச் சொல்லப்படும் சரியான அறிக்கை எது?	ரோம் அதிகமாக இருந்தது	ரோம் ஒரு நாளில் கட்டப்படவில்லை	ரோம் நைல் நதிக்கரையில் அமைந்திருந்தது	ரோம் எளிய கட்டமைப்புகளைக் கொண்டுள்ளது	B	2
32	Basilica is an example of which style of architecture?	Greek architecture	Roman architecture	Indian architecture	Buddist architecture	பசிலிக்கா எந்த பாணி கட்டிடக்கலைக்கு ஒரு எடுத்துக்காட்டு?	கிரேக்க கட்டிடக்கலை	ரோமானிய கட்டிடக்கலை	இந்திய கட்டிடக்கலை	புத்த கட்டிடக்கலை	A	1
33	Which style of architecture brought concrete revolution?	Roman architecture	Muslim architecture	Egypt architecture	Indian architecture	கட்டிடக்கலை எந்த பாணி கான்கிரீட் புரட்சி கொண்டு வந்தது?	ரோமானிய கட்டிடக்கலை	முஸ்லீம் கட்டிடக்கலை	எகிப்து கட்டிடக்கலை	இந்திய கட்டிடக்கலை	A	1
34	What were the architectural forms of roman architecture?	Flat roof and columns	Arch, vault and dome	Pyramid and mastabas	Gopurams	ரோமன் கட்டிடக்கலை கட்டிடக்கலை வடிவங்கள் என்ன?	தட்டையான கூரை மற்றும் நெடுவரிசைகள்	ஆர்ச் பெட்டகத்தை மற்றும் குவிமாடம்	பிரமிட் மற்றும் மஸ்தபாக்கள்	கோபுரமாக்கள்	B	1
35	Which material was abundant in roman civilization?	Concrete	Rubber	Plastic	Linoleum	ரோமன் நாகரிகத்தில் எந்த பொருள் ஏராளமாக இருந்தது?	கான்கிரீட்	ரப்பர்	பிளாஸ்டிக்	லினோலியம்	A	1
36	City planning was firstly developed in which civilization?	Egyptian civilization	Roman civilization	Greek civilization	Bhuddist civilization	நகர திட்டமிடல் முதன்முதலில் எந்த நாகரிகத்தில் உருவாக்கப்பட்டது?	எகிப்திய நாகரிகம்	ரோமானிய நாகரிகம்	கிரேக்க நாகரிகம்	இந்திய நாகரிகம்	B	1

37	What is the shape of pantheon temple at rome?	Cylindrical with a portico	Conical with portico	Square with a portico	Rectangle with a portico	ரோமில் பாந்தெனான் கோயிலின் வடிவம் என்ன?	ஒரு போர்டிகோவுடன் உருளை	போர்டிகோவுடன் கூம்பு	ஒரு போர்டிகோவுடன் சதுரம்	ஒரு போர்டிகோவுடன் செவ்வகம்	A	1
38	What style of column does pantheon temple consists?	Ionic column	Corinthian column	Tuscan column	Composite column	பாந்தெனான் கோயில் எந்த பாணியிலான நெடுவரிசையைக் கொண்டுள்ளது?	அயனி தூண்	கொரிந்திய தூண்	டஸ்கன் தூண்	கூட்டு தூண்	B	1
39	What is the roof shape of pantheon rome?	Ribbed flat slab	Coffered concrete dome	Semi circular arch vault	Elliptical vault	பாந்தியன் ரோமின் கூரை வடிவம் என்ன?	ரிப்பட் பிளாட் ஸ்லாப்	காஃபர் கான்கிரீட் குவிமாடம்	அரை வட்ட வளைவு பெட்டக	நீள்வட்ட பெட்டக	B	1
40	What is the pantheon's large circle dome called?	Pediment	Oculus	Cella	Portico	பாந்தெனனின் பெரிய வட்டம் குவிமாடம் பெயரென்ன?	பெடிமென்ட்	ஓக்குலஸ்	செல்லா	போர்டிகோ	C	1
41	What was the main purpose of basilica at rome?	It served as an hospital	It served as a court	It served as church	It served as a sports area	ரோமில் பசிலிக்காவின் முக்கிய நோக்கம் என்ன?	இது ஒரு மருத்துவமனையாக பணியாற்றியது	இது நீதிமன்றமாக செயல்பட்டது	இது தேவாலயமாக செயல்பட்டது	இது ஒரு விளையாட்டுப் பகுதியாக செயல்பட்டது	B	1
42	What was the purpose of forums in roman architecture?	It served as an temple	It served as an amphitheatre	It served as an market place	It served as a colony	ரோமன் கட்டிடக்கலையில் மன்றத்தின் நோக்கம் என்ன?	இது ஒரு கோவிலாக செயல்பட்டது	இது ஒரு ஆம்பிதியேட்டராக பணியாற்றியது	இது சந்தை இடமாக செயல்பட்டது	இது ஒரு காலனியாக பணியாற்றியது	C	2
43	Which civilization constructed the first largest bridge?	Buddist civilization	Roman civilizaion	Greek civilization	Egypt civilization	எந்த நாகரிகம் முதல் பெரிய பாலத்தை கட்டியது?	புத்த நாகரிகம்	ரோமானிய நாகரிகம்	கிரேக்க நாகரிகம்	எகிப்திய நாகரிகம்	B	1
44	Which one is also known as flavian amphitheatre?	Basillican -rome	Coliseum -rome	Forum -rome	Pathenon - rome	ஃபிளாவியன் ஆம்பிதியேட்டர் என்றும் அழைக்கப்படும் எது?	பசிலிக்கன் -ரோம்	கொலிஜியம் - ரோம்	கருத்துக்களம் - ரோம்	பார்த்தீனான் - ரோம்	B	1
45	What does the latin word basilica mean?	Market place	Court	Public building	The tribunal chamber of a king	பசிலிக்கா என்ற லைடன் வார்த்தையின் பொருள் என்ன?	சந்தை இடம்	நீதிமன்றம்	பொது கட்டிடம்	ஒரு ராஜாவின் தீர்ப்பாய அறை	D	1
46	Which city does st.peters basilica located?	Paris	Spain	New york city	Vatican city	ஸ்ட் பீட்டர்ஸ் பசிலிக்கா எந்த நகரத்தில் அமைந்துள்ளது?	பாரிஸ்	ஸ்பெயின்	நியூயார்க் நகரம்	வத்திக்கான் நகரம்	D	1
47	What is the main characteristic feature of basilica?	Bridge	Interior colannades	Vault	Dome	பசிலிக்காவின் முக்கிய சிறப்பியல்பு அம்சம் என்ன?	பாலம்	உள்துறை கோலனேட்ஸ்	வால்ட்	டோம்	B	1
48	Where is colosseum located?	Rome	Egypt	Greek	India	கொலோசியம் எங்கே அமைந்துள்ளது?	ரோம்	எகிப்து	கிரேக்க	இந்தியா	A	1

Name of the Trade Architectural Draughtsman - 2nd Sem - Module 7- Indian architecture and Surface development

#	Question	OPT A	OPT B	OPT C	OPT D	Question	OPT A	OPT B	OPT C	OPT D	Ans	Level
1	Which style of architecture does stupa denotes?	Buddhist	Chalukya	Pallavas	Hoysala	ஸ்தூபம் எந்த பாணி கட்டிடக்கலை குறிக்கிறது?	பௌத்தர்	சாளுக்கிய	பல்லவஸ்	ஹொய்சாலா	A	1
2	What are the four gateways around the stupas called?	Toranas	Harmika	Railing	Anda	ஸ்தூபங்களைச் சுற்றியுள்ள நான்கு நுழைவாயில்கள் என்ன?	டோரனாஸ்	ஹர்மிகா	ரெயிலிங்	ஆண்டா	A	1
3	Which temple is formed like ratha being carried by seven horses symbolising seven rays of sun?	Hampi temple	Jaganath temple	Sun temple	Stupa	எந்த கோவில் சூரியன் ஏழு கதிர்கள் அடையாளப்படுத்துவது ஏழு குதிரைகள் நடத்தப்படும் ரதம் இனம் போன்று உருவாகிறது?	ஹம்பி கோயில்	ஜெகந்நாத் கோயில்	சூரிய கோயில்	ஸ்தூபம்	C	1
4	Which element encloses stupa with a wooden or stone railing?	Anda	Vedika	Toranas	Bija	எந்த உறுப்பு ஸ்தூபத்தை மர அல்லது கல் தண்டவாளத்துடன் இணைக்கிறது?	ஆண்டா	வேதிகா	டோரனாஸ்	பிஜா	B	1
5	Where is jaganath temple located?	Badami	Puri	Konark	Bhopal	எங்கே ஜெகநாத் கோவில் அமைந்துள்ளது?	பாதாமி	பூரி	கோனர்க்	போபால்	B	1
6	Which one is an example of northern hindu style architecture?	Brihadeshwar temple at tanjaore	Rock cut cave at badami	Shore temple at Mahabalipuram	Sun temple at konark	வடக்கு இந்து பாணி கட்டிடக்கலைக்கு உதாரணம் எது?	தஞ்சையில் உள்ள பிருஹதேஸ்வரர் கோயில்	பாடாமியில் பாறை வெட்டப்பட்ட குகை	மகாபலிபுரத்தில்கரையோரக் கோயில்	கோனார்க்கில் சூரிய கோயில்	D	1
7	Which material is used for monolithic temples at mamallapuram?	Sandstone	Marble	Granite	Slate	மாமல்லபுரத்தில் உள்ள ஒற்றைக் கோயில்களுக்கு எந்த பொருள் பயன்படுத்தப்படுகிறது?	மணற்கல்	மார்பிள்	கிரானைட்	ஸ்லேட்	C	1
8	What are pushkarinis in dravidian style of temple?	Shrine	Gateways	Storeyed towers	Water tank	கோவிலின் திராவிட பாணியில் புஷ்கரினிகள் என்றால் என்ன?	சன்னதி	நுழைவாயில்	மாடி கோபுரங்கள்	நீர் தொட்டி	D	1
9	Which style of architecture is designed for sun temple at Konark?	Northern hindu style	Central hindu style	Southern hindu style	Western hindu style	கோனார்க்கில் சூரிய கோவிலுக்கு எந்த பாணி கட்டிடக்கலை வடிவமைக்கப்பட்டுள்ளது?	வடக்கு இந்து பாணி	மத்திய இந்து பாணி	தெற்கு இந்து பாணி	மேற்கத்திய இந்து நடை	A	1
10	How many surface does a cube consists?	2 faces	6 faces	4 faces	12 faces	ஒரு கன சதுரம் எத்தனை மேற்பரப்பைக் கொண்டுள்ளது?	2 முகங்கள்	6 முகங்கள்	4 முகங்கள்	12 முகங்கள்	B	1
11	How many circles does cylinder consists?	3 circles	1 circle	4 circles	2 circles	சிலிண்டர் எத்தனை வட்டங்களைக் கொண்டுள்ளது?	3 வட்டங்கள்	1 வட்டங்கள்	4 வட்டங்கள்	2 வட்டங்கள்	D	1
12	Which solid consist of 5 triangles?	Cube	Pentagonal prism	Pentagonal pyramid	Cone	5 முக்கோணங்களின் திடமான நிலையானது எது?	கன	பென்டகோனல் ப்ரிஸம்	பென்டகோனல் பிரமிடு	கூம்பு	C	1

13	Which solid consists of 6 squares?	Cube	Pyramid	Prism	Cylinder	எந்த திடமானது 6 சதுரங்களைக் கொண்டுள்ளது?	கன	பிரமிட்	ப்ரிசம்	சிலிண்டர்	A	1
14	What is the main characteristic features of buddhist architecture?	Stupas	Gopuras	Pyramids	Vaults	புத்த கட்டிடக்கலை முக்கிய அம்சங்கள் என்ன?	ஸ்தூபஸ்	கோபுராஸ்	பிரமிட்	வால்ட்ஸ்	A	1
15	Which style of architecture does the stupa at sanchi belong to?	Muslim arhcitecture	Buddhist architecture	Southern hindu style architecture	Northern hindu style architecture	சாஞ்சியில் உள்ள ஸ்தூபம் எந்த பாணி கட்டிடக்கலைக்கு சொந்தமானது?	முஸ்லீம் கட்டிடக்கலை	புத்த கட்டிடக்கலை	தெற்கு இந்து பாணி கட்டிடக்கலை	வடக்கு இந்து பாணி கட்டிடக்கலை	B	1
16	What is the purpose of chaityas in buddhist architecture?	Market place	Amphitheatre for sports	Prayer hall	Public building	புத்த கட்டிடக்கலையில் சைத்யாக்களின் நோக்கம் என்ன?	சந்தை இடம்	விளையாட்டுக் கான ஆம்பிதியேட்டர்	பிரார்த்தனை மண்டபம்	பொது கட்டிடம்	C	1
17	Where is chaityas located in india?	Badami caves	Ajanta and ellora caves	Hampi	Konark	எங்கே சைத்தியங்கள் இந்தியாவில் அமைந்துள்ளது?	பாதாமி குகைகள்	அஜந்தா மற்றும் எல்லோரா குகைகள்	ஹம்பி	கோனார்க்	B	1
18	What is the other name of column in buddhist architecture?	Chaitayas	Stupas	Stambas	Viharas	புத்த கட்டிடக்கலையில் நெடுவரிசையின் மற்ற பெயர் என்ன?	சைத்யாஸ்	ஸ்தூபஸ்	ஸ்தம்பாஸ்	விகாரைகள்	C	1
19	Which animal form is used in ashoka pillar?	Tiger faces	Lion faces	Peacock faces	Sheep faces	அசோக தூணில் எந்த விலங்கு வடிவம் பயன்படுத்தப்படுகிறது?	புலி முகங்கள்	சிங்கம் முகங்கள்	மயில் முகங்கள்	செம்மறி முகங்கள்	B	1
20	How many spokes does the chakra in ashoka pillar consists?	12 spokes	24 spokes	5 spokes	55 spokes	அசோக தூணில் உள்ள சக்கரம் எத்தனை ஸ்போக்ஸ் கொண்டுள்ளது?	12 ஸ்போக்ஸ்	24 ஸ்போக்ஸ்	5 ஸ்போக்ஸ்	55 ஸ்போக்ஸ்	B	1
21	Where is khajuraho temple located?	Tamil nadu	Uttar pradesh	Madhya pradesh	Karnataka	கஜுராஹோ கோயில் எங்கே அமைந்துள்ளது?	தமிழ்நாடு	உத்தரபிரதேசம்	மத்தியப் பிரதேசம்	கர்நாடகா	C	1
22	Which architecture sytle is badami temple designed?	Dravidian architecture	Chalukyan architecture	Northern architecture	Roman architecture	பாதாமி கோயில் எந்த கட்டிடக்கலை பாணி வடிவமைக்கப்பட்டுள்ளது?	திராவிட கட்டிடக்கலை	சாளுக்கியன் கட்டிடக்கலை	வடக்கு கட்டிடக்கலை	ரோமானிய கட்டிடக்கலை	B	1
23	What material is badami cave temple?	Marble	Concrete	Lime stone	Sand stone	பாதாமி குகைக் கோயில் என்ன பொருள்?	மார்பிள்	கான்கிரீட்	சுண்ணாம்பு கல்	மணல் கல்	D	1
24	Which one is an example of hoysala architecture?	Jagannath temple at puri	Shore temple at mahabalipuram	Sun temple at konark	Hoysaleshwara temple at halebid	ஹொய்சாலா கட்டிடக்கலைக்கு உதாரணம் எது?	பூரியில் ஜெகன்னாத் கோயில்	மகாபலிபுரத்தில் கரையோரக் கோயில்	கோனார்க்கில் சூரிய கோயில்	ஹலேபீட்டில் உள்ள ஹொய்சலேஸ் வரர் கோயில்	D	1
25	Where is vittala temple located?	Khajarahho	Orrisa	Puri	Hampi	ஹொய்சாலா கட்டிடக்கலை பாணி கோயில்கள் எங்கே அமைந்துள்ளது?	கஜுராஹோ	ஒரிசா	பூரி	ஹம்பி	D	1

26	Where is hoysala architecture style temples located?	Tamil nadu	Karnataka	Orrisa	Assam	ஹொய்சாலா கட்டிடக்கலை பாணி கோயில்கள் எங்கே உள்ளன?	தமிழ்நாடு	கர்நாடக	ஒரிசா	அசாம்	B	1
27	Which dynasty constructed brihadeshwara temple?	Hoysala dynasty	Chola dynasty	Gupta dynasty	Mourya dynasty	பிரிஹதேஸ்வரர் கோயிலை கட்டிய வம்சம் எது?	ஹொய்சலா வம்சம்	சோழ வம்சம்	குப்தா வம்சம்	மௌரிய வம்சம்	B	1
28	What forms of designed is considered for brihadeshwara temple?	Circular and rectangular geometry	Axial and symmetrical geometry	Asymmetrical geometry	Conical geometry	பிரிஹதேஸ்வரர் கோயிலுக்கு வடிவமைக்கப்பட்ட எந்த வடிவங்கள் கருதப்படுகின்றன?	வட்ட மற்றும் செவ்வக வடிவியல்	அச்சு மற்றும் சமச்சீர் வடிவியல்	சமச்சீர் வடிவியல்	கூம்பு வடிவியல்	B	2
29	How many storey does madurai temple consists?	3 storey	8 storey	6 storey	1 storey	மதுரை கோயில் எத்தனை மாடிகளைக் கொண்டுள்ளது?	3 மாடி	8 மாடி	6 மாடி	1 மாடி	A	1
30	Which god is dedicated to madurai temple?	Meenakshi	Kamakshi	Vishalakshi	Lakshmi	மதுரை கோயிலுக்கு அர்ப்பணிக்கப்பட்ட கடவுள் யார்?	மீனாட்சி	காமாட்சி	விஷாலட்சி	லட்சுமி	A	1
31	Which river passes through madurai temple?	Vaigai river	Kaveri river	Krishna river	Ganga river	மதுரை கோயில் வழியாக எந்த நதி செல்கிறது?	வைகை நதி	காவேரி நதி	கிருஷ்ணா நதி	கங்கை நதி	A	1
32	What forms of designed is considered for shore temple?	Rectangular platform with conical structure	Square platform with pyramidal structure	Circular platform with dome structure	Circular platform with vault structure	கரையோரக் கோயிலுக்கு வடிவமைக்கப்பட்ட எந்த வடிவங்கள் கருதப்படுகின்றன?	கூம்பு அமைப்புடன் செவ்வக மேடை	பிரமிடு அமைப்புடன் சதுர மேடை	குவிமாடம் அமைப்புடன் வட்ட மேடை	பெட்டக அமைப்புடன் வட்ட மேடை	B	1
33	Which style of architecture does shore temple belong?	Mughal style	Buddhist style	Hoysala style	Dravidian style	கரையோரக் கோயில் எந்த பாணி கட்டிடக்கலைக்கு சொந்தமானது?	முகலாய பாணி	பௌத்த பாணி	ஹொய்சலா பாணி	திராவிட பாணி	D	1
34	How many pagodas are there in shore temple?	2 pagodas	1 pagoda	7 pagodas	12 pagodas	கரையோர கோவிலில் எத்தனை பகோடாக்கள் உள்ளன?	2 பகோடாக்கள்	1 பகோடாக்கள்	7 பகோடாக்கள்	12 பகோடாக்கள்	C	1